

**CPREM**

**GEOGRAFIA**

**CARACTERÍSTICAS GERAIS DO TERRITÓRIO BRASILEIRO**

**PROF. DOUGLAS RAIZARO**

**05/10/2024**

# Concurso de Admissão

05/04/1988



08/11/2010



**01/01/2022**



**Escola de Saúde e Formação Complementar do Exército (ESFCEEx).**

# **RELAÇÃO DE ASSUNTOS E BIBLIOGRAFIA**

## **INDICADOS PARA O**

## **CONCURSO DE ADMISSÃO / 2024**

### **EDITAL 2024**

# **ASSUNTOS**

## **1. A Organização do Espaço Brasileiro.**

- a) A integração brasileira ao processo de internacionalização da economia; o desenvolvimento econômico e social; e os indicadores sociais do Brasil.**
- b) O processo de industrialização brasileira, os fatores de localização e as suas repercussões: econômicas, ambientais e urbanas.**
- c) A rede de transportes brasileira e sua estrutura e evolução.**
- d) A questão urbana brasileira: processos e estruturas.**

# ASSUNTOS

## **1. A Organização do Espaço Brasileiro.**

- e) A agropecuária, a estrutura fundiária e problemas sociais rurais no Brasil, dinâmica das fronteiras agrícolas e sua expansão para o Centro-Oeste e para a Amazônia.**
- f) A população brasileira: evolução, estrutura e dinâmica.**
- g) A distribuição dos efetivos demográficos e os movimentos migratórios internos: reflexos sociais e espaciais.**

# ASSUNTOS

## 2. A Questão Regional no Brasil

- a) A regionalização do país: sua justificativa socioeconômica e critérios adotados pelo Instituto Brasileiro de Geografia e Estatística (IBGE); as regiões e as políticas públicas para fins de planejamento.
- b) As regiões brasileiras: especializações territoriais, produtivas e características sociais e econômicas.

# ASSUNTOS

## **3. O Espaço Natural Brasileiro: seu aproveitamento econômico e o meio ambiente.**

- a) Geomorfologia do território brasileiro: O território brasileiro e a placa sul-americana; as bases geológicas do Brasil; as feições do relevo; os domínios naturais e as classificações do relevo brasileiro.**
- b) A questão ambiental no Brasil.**
- c) Os recursos minerais.**
- d) As fontes de energia e os recursos hídricos.**
- e) A biosfera e os climas do Brasil.**




## BIBLIOGRAFIA

- ✓ ROSS, J. L. S. (org). Geografia do Brasil. 6ª. ed. São Paulo: EDUSP, 2019.



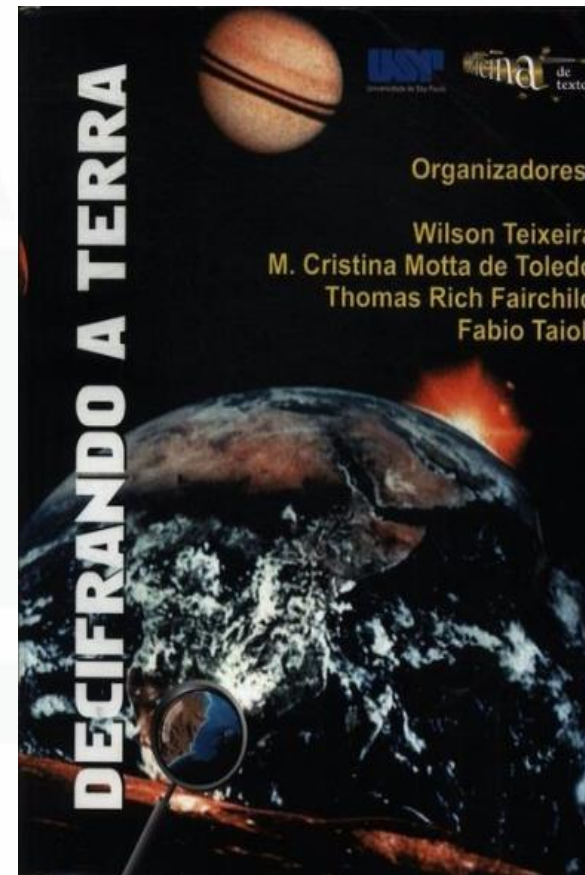
# BIBLIOGRAFIA

- ✓ BOLIGIAN, L.; ALVES, A. Geografia. Espaço e identidade. Volume 1: Ensino Médio. 1ª. ed. São Paulo: Ed. Brasil, 2016.




## BIBLIOGRAFIA

- ✓ TEIXEIRA, W. et. al. (org.).  
Decifrando a Terra. São Paulo:  
Companhia Editora Nacional,  
2000.



## BIBLIOGRAFIA

- ✓ THÉRY, H.; MELLO, N. A. Atlas do Brasil. Disparidades e dinâmicas do território. 3ª ed. São Paulo: EDUSP, 2018.





## BIBLIOGRAFIA

- ✓ Atlas do Desenvolvimento Humano nas Regiões Metropolitanas Brasileiras. Brasília: PNUD, IPEA, FJP, 2014. Disponível em: [https://www.ipea.gov.br/portal/index.php?option=com\\_content&id=24037](https://www.ipea.gov.br/portal/index.php?option=com_content&id=24037)



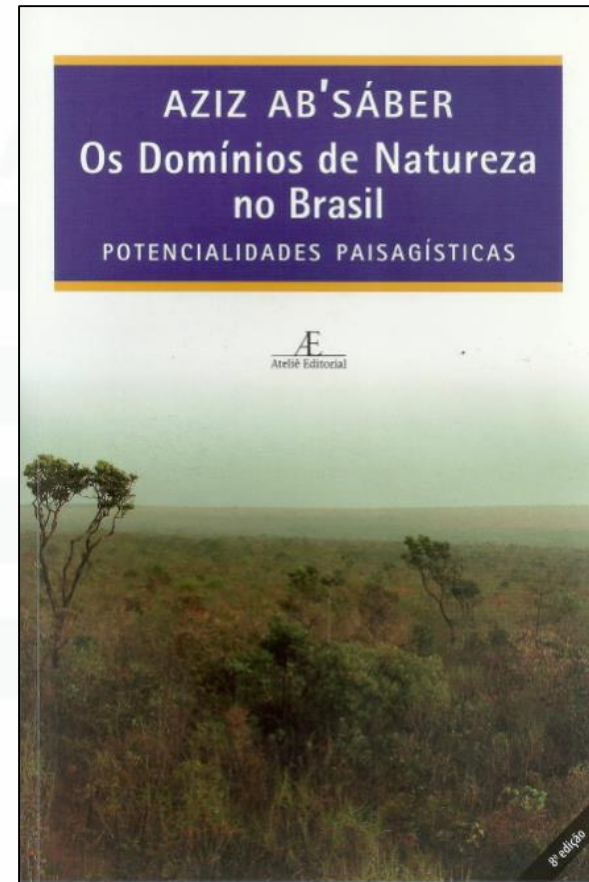
## BIBLIOGRAFIA

- ✓ MOREIRA, J. C.; SENE, J. E. de.  
GEOGRAFIA GERAL E DO BRASIL -  
6ª ed. São Paulo: Ática, 2018.




## BIBLIOGRAFIA

- ✓ AB'SABER, Aziz. Nacib. Os domínios de natureza no Brasil: potencialidades paisagísticas. São Paulo: Ateliê Editorial, 2003.



## BIBLIOGRAFIA

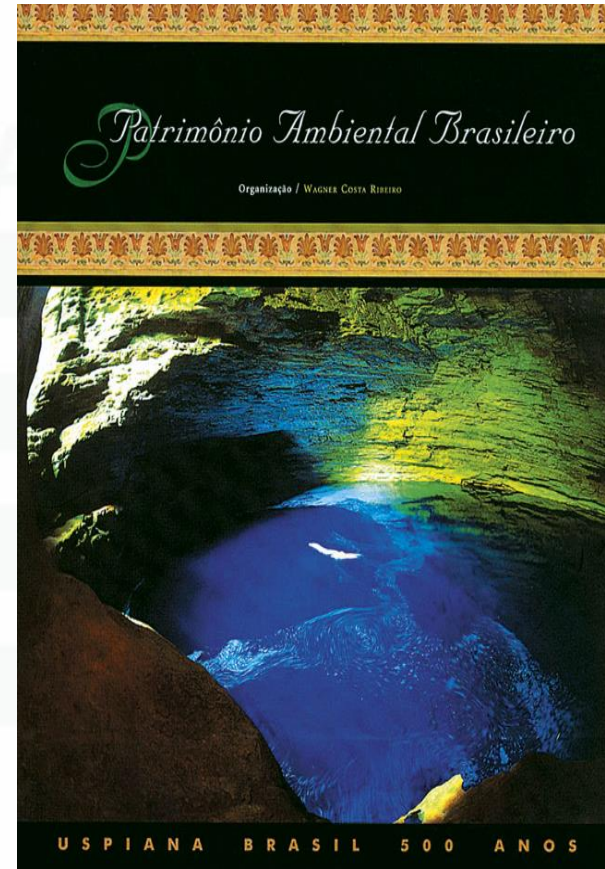
- ✓ COUTINHO, LEOPOLDO MAGNO.  
Biomas Brasileiros. São Paulo:  
Oficina de Textos, 2016.






## BIBLIOGRAFIA

- ✓ RIBEIRO, WAGNER COSTA. Patrimônio Ambiental Brasileiro. São Paulo: Edusp/Imprensa Oficial do Estado de São Paulo, 2003.



## BIBLIOGRAFIA

- ✓ ROSS, J.L.S. Ecogeografia do Brasil. São Paulo: Oficina de Textos, 2006.



## GEOGRAFIA – BANCA DA PROVA

- ✓ A **Fundação para o Vestibular da Universidade Estadual Paulista (Vunesp)** consiste em uma fundação pública sem fins lucrativos, cujo caráter jurídico é de direito privado. Criada em 1979, pelo Conselho Universitário da Unesp, a Vunesp é uma organizadora bastante **tradicional**, que começou na área de concursos organizando seleções municipais e estaduais.
- ✓ A organizadora é responsável pelo **vestibular da Unesp**, por vestibulares e **concursos** de vários outros órgãos públicos e privados, além da promoção de atividades de pesquisa, extensão e serviços à comunidade. A Fundação, nos últimos anos, se firmou enquanto banca tradicional para concursos estaduais e municipais em São Paulo, ganhando cada vez mais espaço fora do território paulista.
- ✓ Valoriza e **testa os conhecimentos** do candidato.

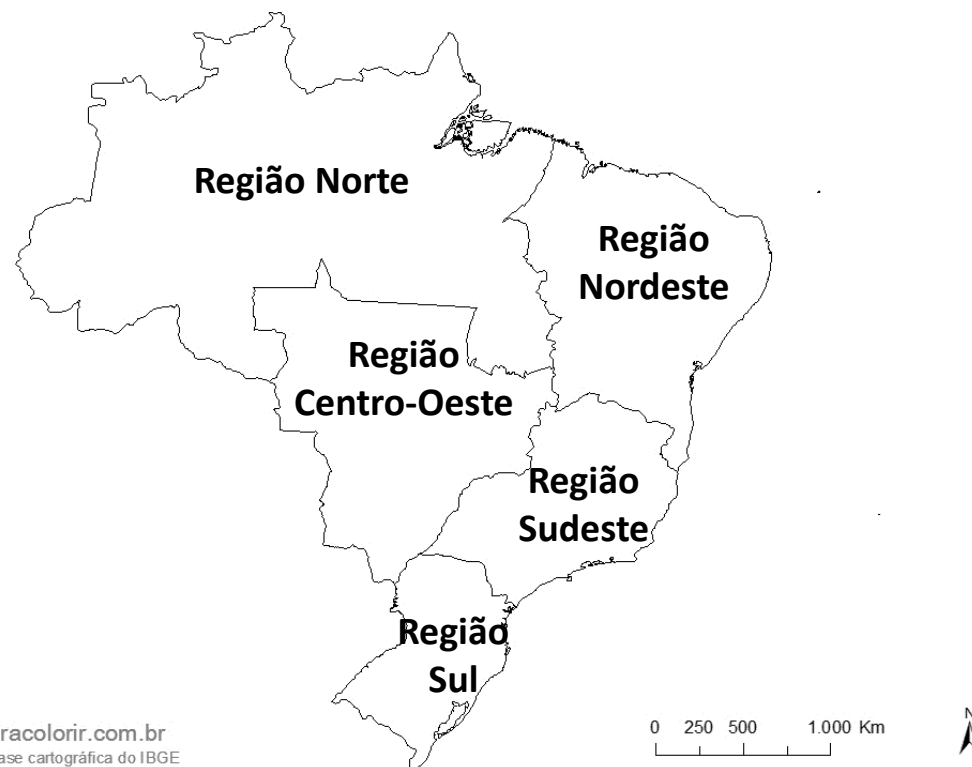
## **A Questão Regional no Brasil**

A regionalização do país: sua justificativa sócio-econômica e critérios adotados pelo Instituto Brasileiro de Geografia e Estatística (IBGE); as regiões e as políticas públicas para fins de planejamento.

## **Características Gerais do Território Brasileiro:**

- ✓ **Mapa do Brasil**
- ✓ **Localização**
- ✓ **Extensão**
- ✓ **Fronteiras**
- ✓ **Pontos extremos**
- ✓ **Fusos horários**
- ✓ **Mar territorial**

## BRASIL: REGIÕES



[www.mapasparacolorir.com.br](http://www.mapasparacolorir.com.br)  
Elaborado a partir de base cartográfica do IBGE

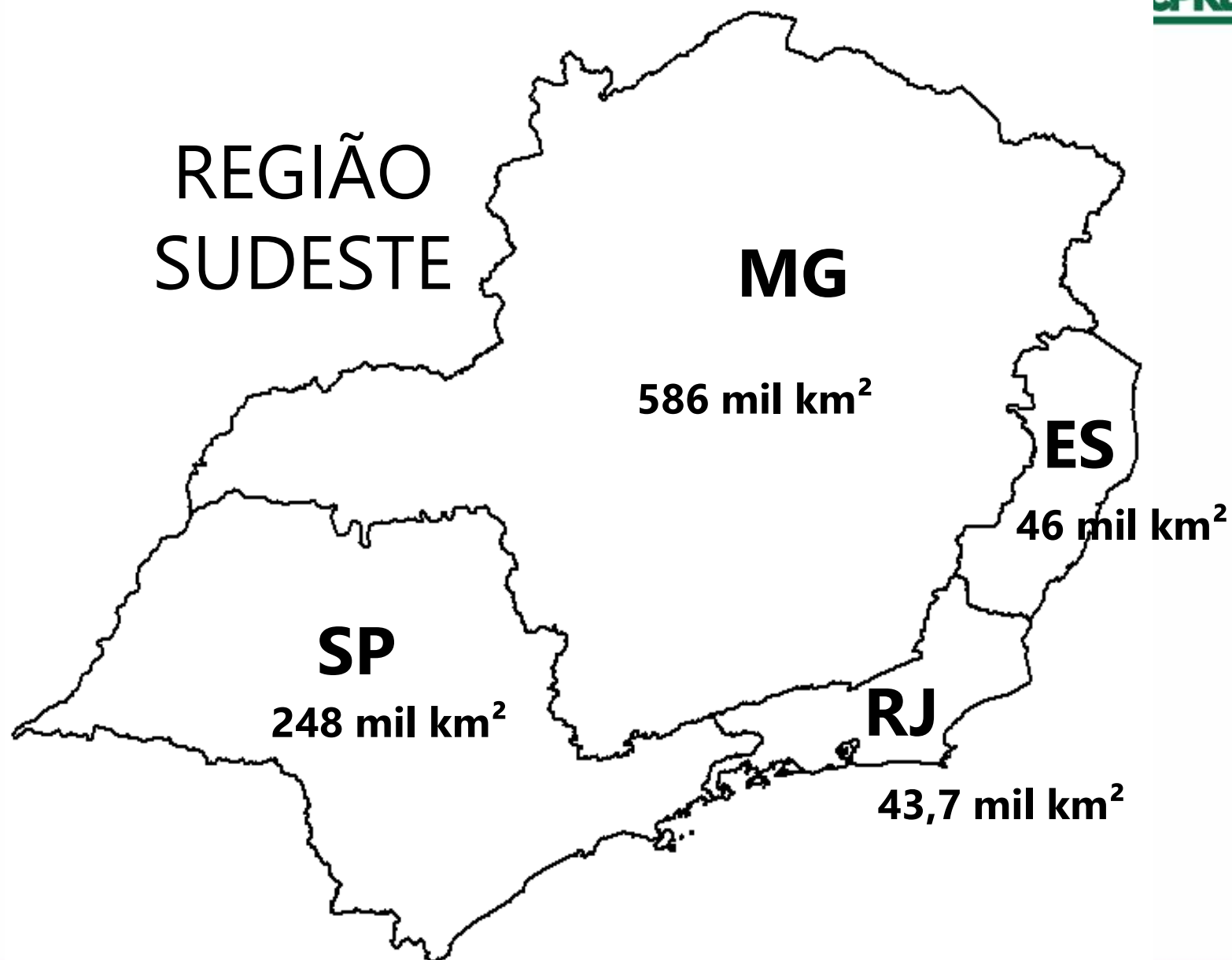
## Mapa Mudo - Região Norte













# REGIÃO CENTRO-OESTE



# SIGLAS DOS ESTADOS BRASILEIROS

A sigla PR é referente à qual estado brasileiro?

- A. Pará
- B. Paraíba
- C. Pernambuco
- ☒ D. Paraná

# REPÚBLICA FEDERATIVA DO BRASIL: SIGLAS DOS ESTADOS

**27 unidades administrativas**  
**26 estados + 1 distrito federal**



[www.mapasparacolorir.com.br](http://www.mapasparacolorir.com.br)  
Elaborado a partir de base cartográfica do IBGE

0 250 500 1.000 Km

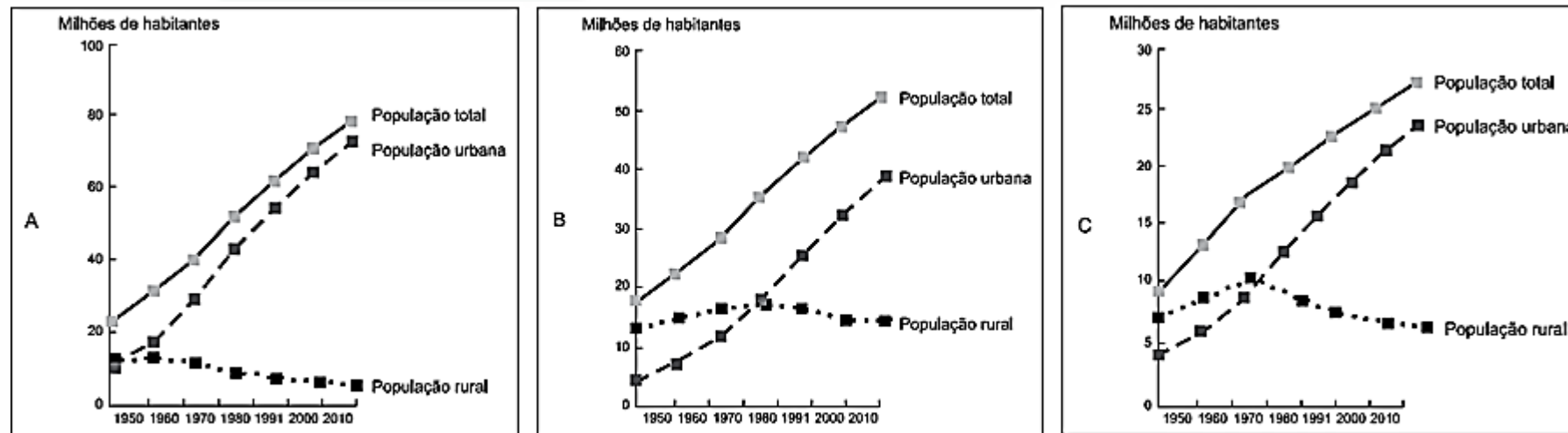


## QUADRO COMPARATIVO DAS REGIÕES BRASILEIRAS

REGIÃO	ÁREA	POPULAÇÃO	DENSIDADE DEMOGRÁFICA
NORTE	3.850.593	17.355.778	4,51 hab/km <sup>2</sup>
NORDESTE	1.552.175	54.657.621	35,21 hab/km <sup>2</sup>
SUDESTE	924.558	84.840.113	91,76 hab/km <sup>2</sup>
SUL	576.737	29.937.706	51,91 hab/km <sup>2</sup>
CENTRO-OESTE	1.606.354	16.289.538	10,14 hab/km <sup>2</sup>
<b>BRASIL</b>	<b>8.510.418</b>	<b>203.080.756</b>	<b>23,86 hab/km<sup>2</sup></b>
Fonte: IBGE, CENSO 2022			

# ESFCEX 2021

Observe os gráficos da população total, urbana e rural (em milhões de habitantes) do Brasil entre os anos de 1950 e 2010.



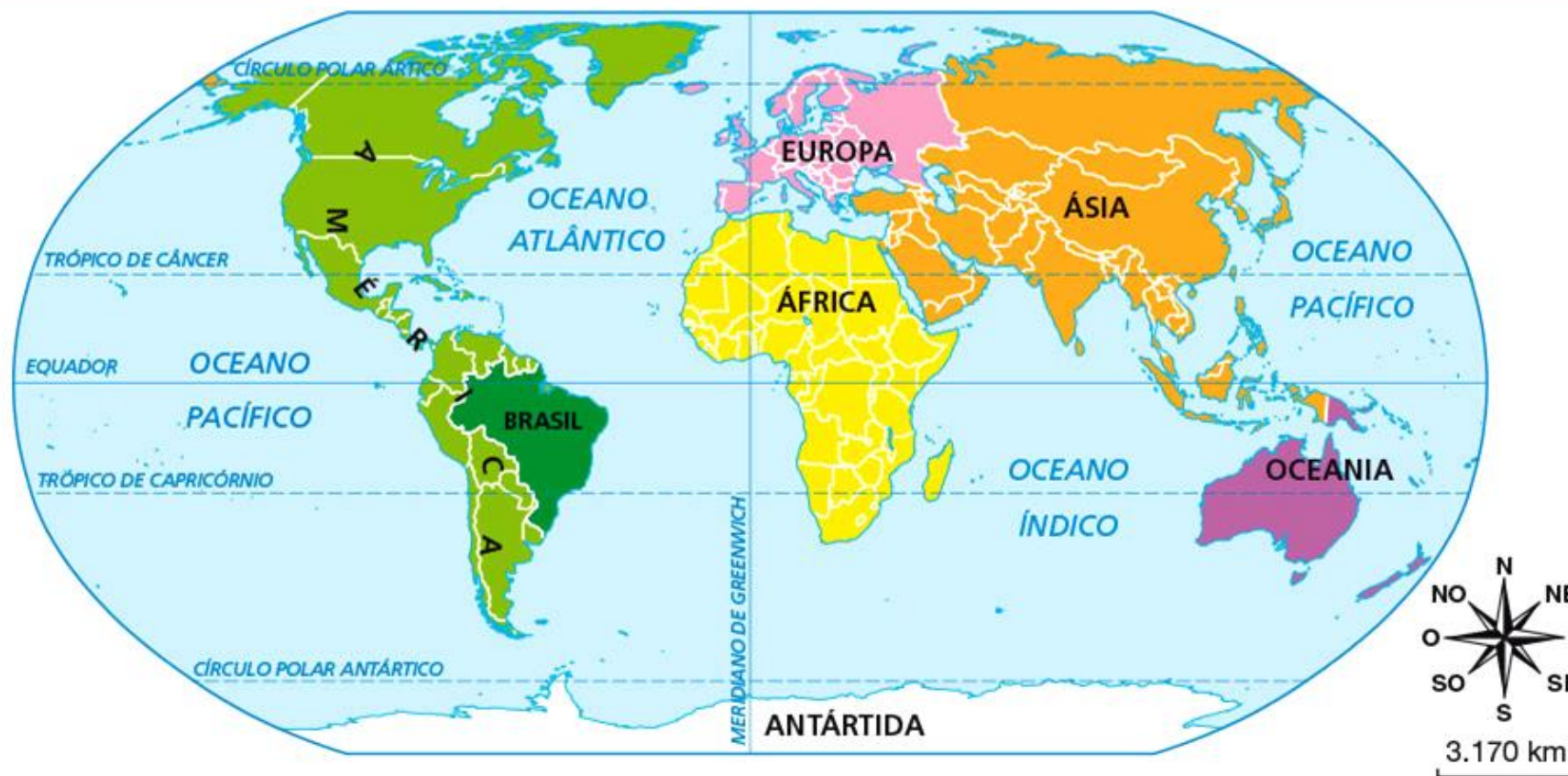
Fonte: THÉRY, H.; MELLO, N. A. Atlas do Brasil. Disparidades e dinâmicas do território, 2018, p.123.

Baseando-se nos totais absolutos representados no eixo das ordenadas e na evolução temporal da população rural e urbana, é correto apontar que os gráficos A, B e C representam, respectivamente, as regiões brasileiras:

**SUDESTE, NORDESTE e SUL**



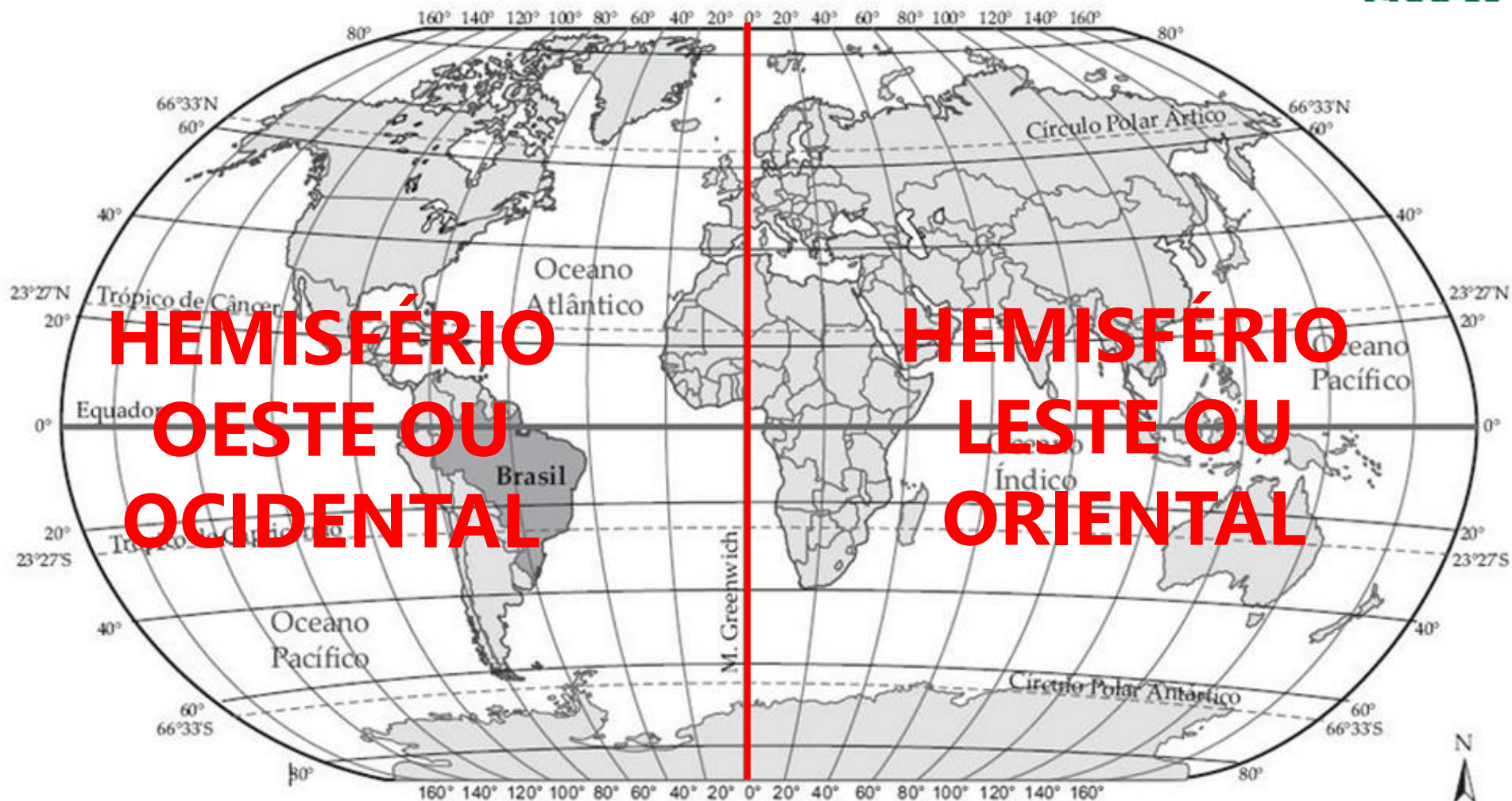
# O Brasil no Mundo







- ✓ 93% no Hemisfério Sul
- ✓ 7% no Hemisfério Norte

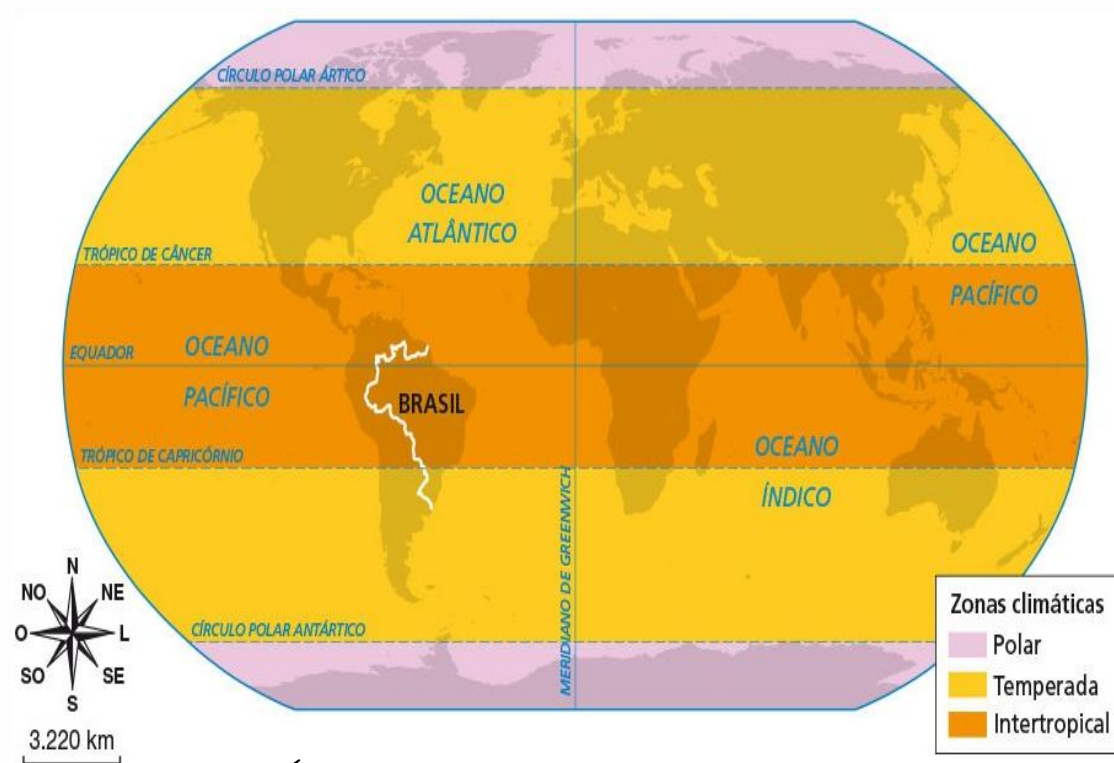


✓ Inteiraamente no Hemisfério Ocidental



Único país do mundo “cortado” simultaneamente pelo Equador e Trópico de Capricórnio, tendo 92% de seu território localizado na Zona Climática Tropical. Como consequência desta localização geográfica a **tropicalidade** é uma característica marcante do território brasileiro.



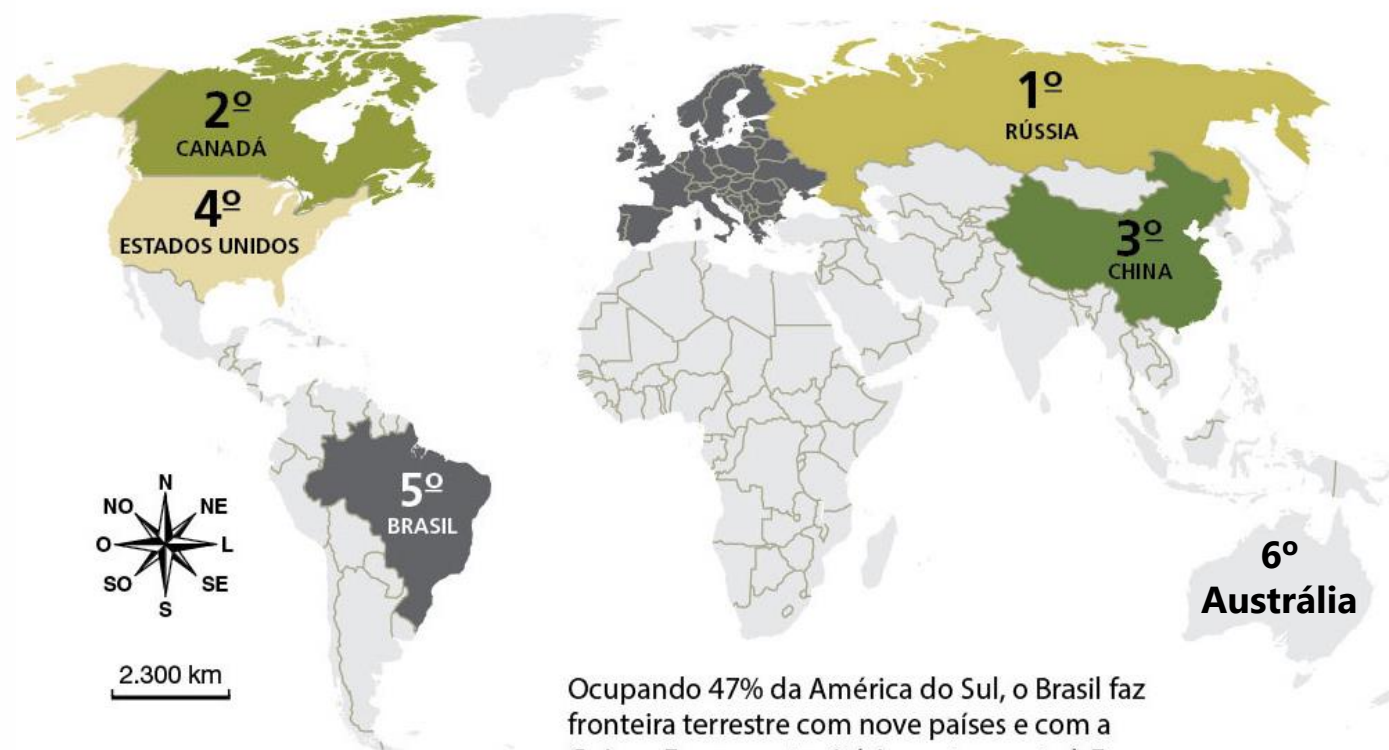


- ✓ 92% na Zona Tropical
- ✓ 8% na Zona Temperada do Hemisfério Sul
- ✓ Tropicalidade
- ✓ Baixas Latitudes

- ✓ **A MAIOR PARTE DO TERRITÓRIO BRASILEIRO SE LOCALIZA DENTRO DA ZONA CLIMÁTICA INTERTROPICAL OU TROPICAL, OU SEJA, SITUA-SE EM BAIXAS LATITUDES, ONDE A RADIAÇÃO SOLAR É MAIS DIRETA E FORTE.**
- ✓ **DESTE MODO, OCORRE O PREDOMÍNIO DE CLIMAS QUENTES E ÚMIDOS (TROPICAIS) EM NOSSO TERRITÓRIO.**
- ✓ **PORTANTO, A TROPICALIDADE É UMA IMPORTANTE CARACTERÍSTICA DO BRASIL.**
- ✓ **APENAS 8% DO TERRITÓRIO SE ENCONTRA NA ZONA TEMPERADA DO HEMISFÉRIO SUL, ONDE O CLIMA É SUBTROPICAL.**

## Os maiores países

Observe o mapa e veja quais são os maiores países do mundo. Desconsiderando a parte europeia da Rússia, todo o continente europeu caberia na área ocupada pelo território brasileiro.



Ocupando 47% da América do Sul, o Brasil faz fronteira terrestre com nove países e com a Guiana Francesa, território pertencente à França.

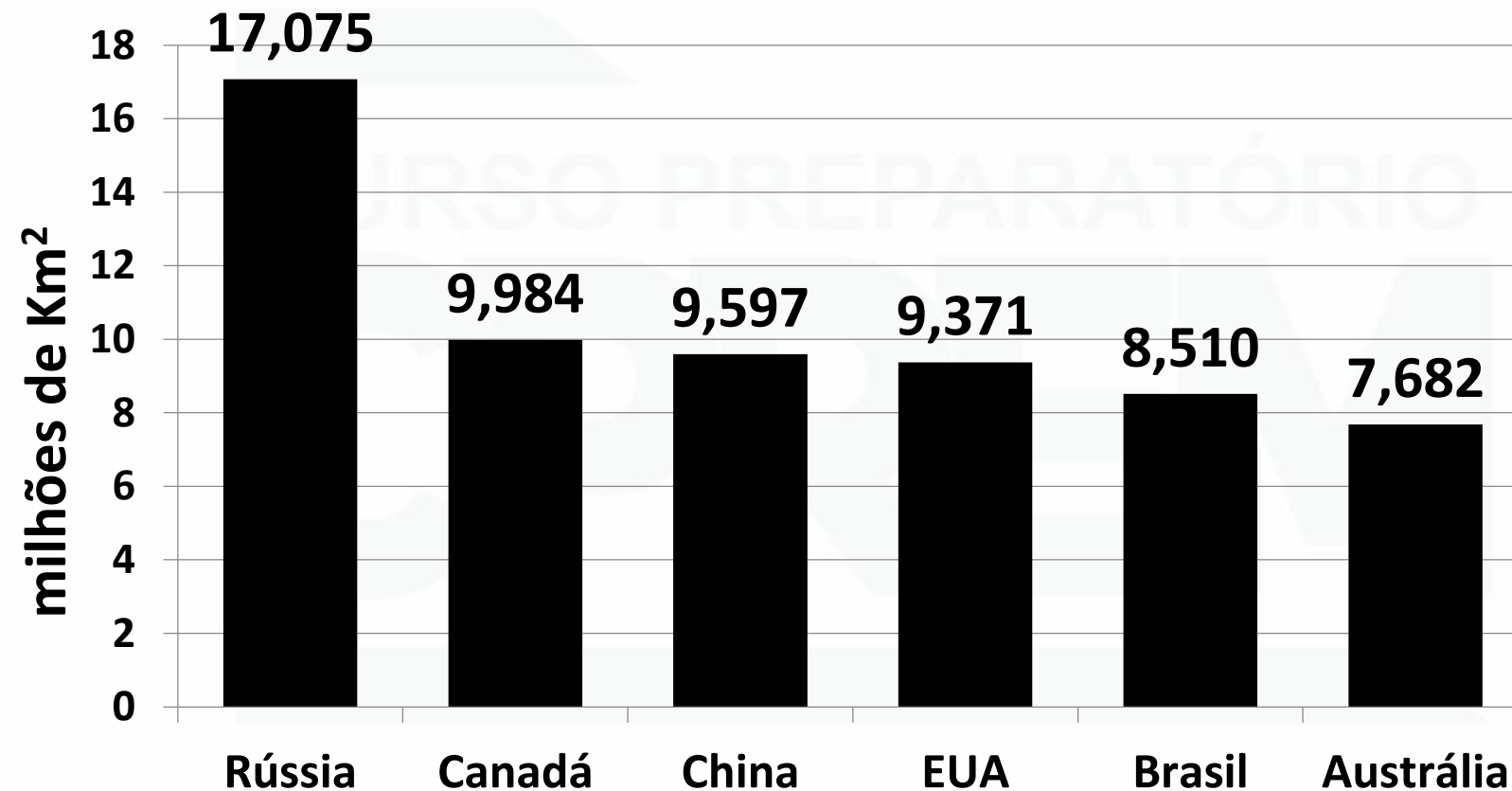
Fonte: IBGE. *Atlas geográfico escolar*. 6. ed. Rio de Janeiro: IBGE, 2012. p. 34.

## OBSERVAÇÃO

- ✓ NO CRITÉRIO DE “**TERRAS CONTÍNUAS**” O BRASIL PASSA A SER O 4º MAIOR PAÍS DO MUNDO.
- ✓ ISSO OCORRE PORQUE O TERRITÓRIO DOS ESTADOS UNIDOS APRESENTA IMPORTANTE E ENORME DESCONTINUIDADE TERRITORIAL.
- ✓ O TERRITÓRIO CONTÍNUO NORTE-AMERICANO (DE NOVA YORK, NA COSTA LESTE, ATÉ LOS ANGELES NA COSTA OESTE) É MENOR DO QUE O TERRITÓRIO BRASILEIRO.
- ✓ PORÉM, JUNTANDO COM O ALASKA, O TERRITÓRIO NORTE-AMERICANO PASSA A SER MAIOR.
- ✓ O ALASKA TEM O TAMANHO DO ESTADO DO AMAZONAS, APROXIMADAMENTE.

## Maiores países do mundo em área

Fonte: IBGE





# Índia ultrapassa China e agora é a maior nação; saiba quais são os dez países mais populosos do mundo

China perdeu o posto de país com maior população desde o começo da contagem da Organização das Nações Unidas, ONU, iniciada em 1950. Brasil está na sétima posição.

Por g1

29/04/2023 16h26 · Atualizado há 3 meses



Imagem de mercado em Mumbai, na Índia, em 17 de março de 2023 — Foto: Rajanish Kakade/AP

Com Índia e China no topo, confira a lista dos dez países com as maiores populações do mundo, segundo estimativa da ONU:

1. **Índia:** 1,428 bilhão;
2. **China:** 1,425 bilhão;
3. **Estados Unidos:** 334,6 milhões;
4. **Indonésia:** 281,6 milhões;
5. **Paquistão:** 232,9 milhões;
6. **Nigéria:** 220,5 milhões;
7. **Brasil:** 216,4 milhões; → **203,1 milhões, Censo 2022**
8. **Bangladesh:** 169,3 milhões;
9. **Rússia:** 146,1 milhões;
10. **México:** 132,7 milhões.

Por g1

29/04/2023 16h26 · Atualizado há 3 meses

# ATENÇÃO

**PARA EFEITO DE PROVA  
(CONCURSO), CONSIDERAR QUE O  
BRASIL É O 5º MAIS POPULOSO.**

**ÁREA TERRITORIAL OFICIAL**  
**conforme publicado pelo IBGE no DOU nº 16 de 23/01/2013**



**ÁREA TERRITORIAL OFICIAL  
conforme THÉRY, Hervé**



**ÁREA TERRITORIAL OFICIAL**  
**conforme publicado pelo IBGE no DOU nº 41 de 03/03/2021**

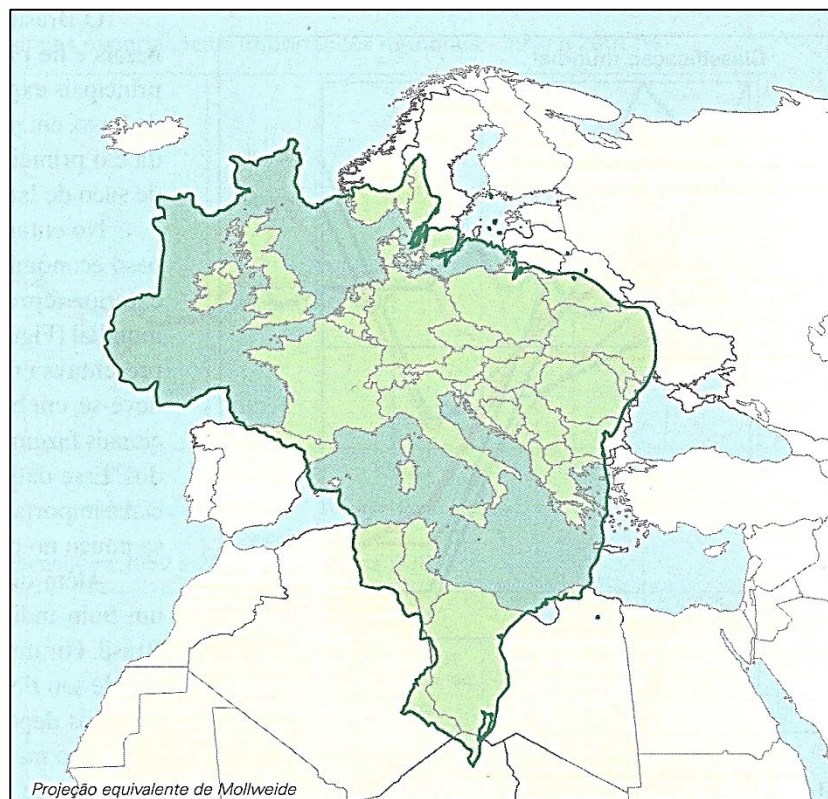


**ÁREA TERRITORIAL OFICIAL  
conforme Censo 2022**





## UM PAÍS DE DIMENSÕES CONTINENTAIS

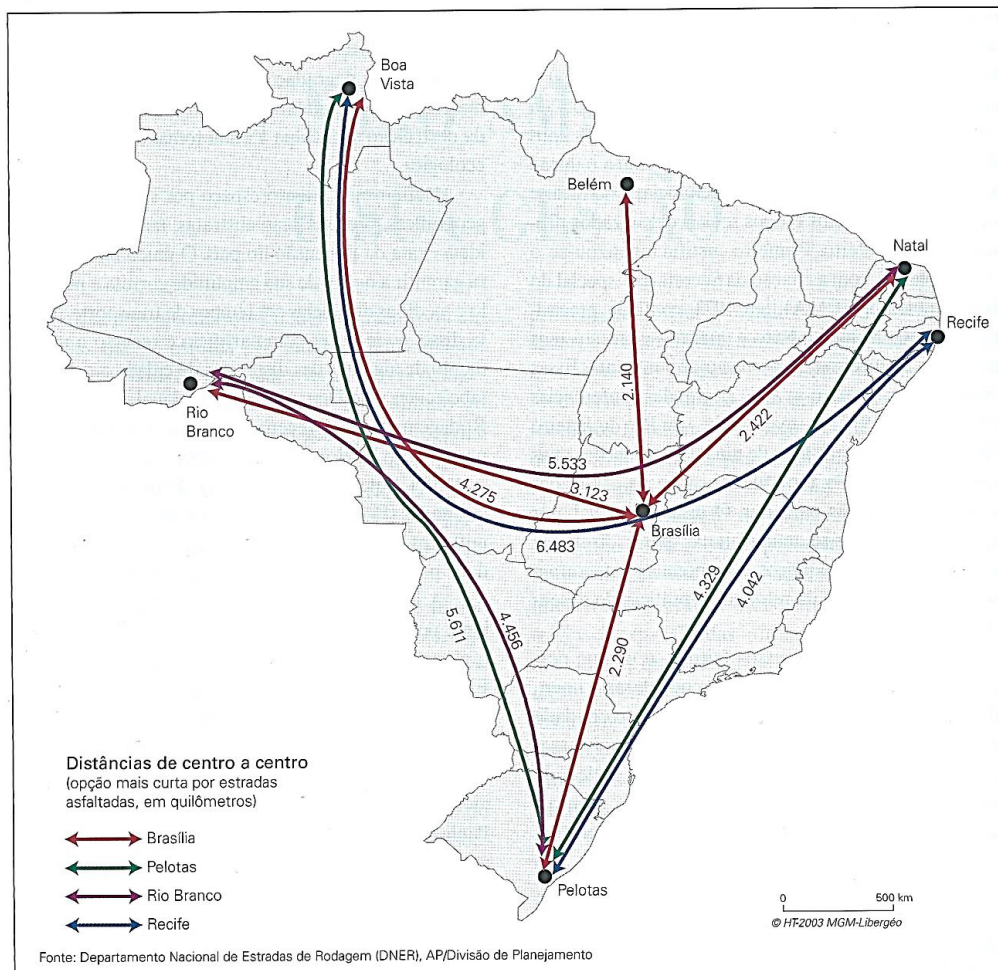


**FONTE: THÉRY, Hervé & MELLO-THÉRY, Neli Aparecida de. Atlas do Brasil: disparidades e dinâmicas do território. Edusp, página 21.**



## Brasil: país de dimensões continentais.

### 03-01. Distâncias de quatro algarismos



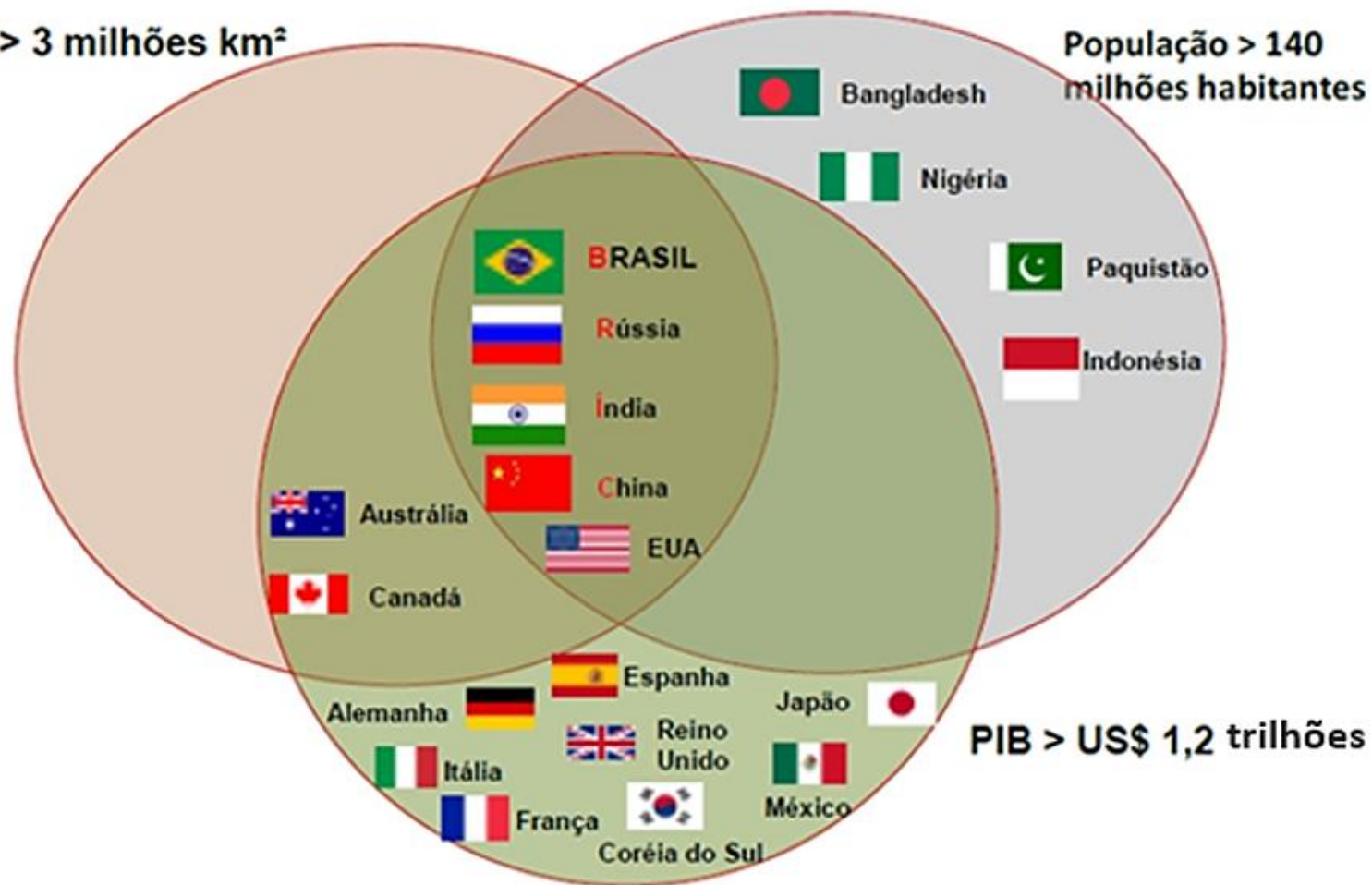
FONTE: THÉRY, Hervé & MELLO-THÉRY, Neli Aparecida de. Atlas do Brasil: disparidades e dinâmicas do território. Edusp, página 22.



# O BRASIL NO MUNDO

Área > 3 milhões km<sup>2</sup>

População > 140  
milhões habitantes



Fonte: Banco Mundial, 2015 – elaboração IBRAM

Enormidade territorial:

**Vantagens:**

- ✓ Existência de recursos naturais.
- ✓ Diversidade climática → diversidade agrícola.
- ✓ Extensa rede hidrográfica.
- ✓ Enorme litoral.

Enormidade territorial:

**Desvantagens:**

- ✓ Enormes distâncias.
- ✓ Desigualdades regionais.
- ✓ Dificuldades de se administrar e promover uma integração nacional.
- ✓ Porosidade das enormes fronteiras terrestres.

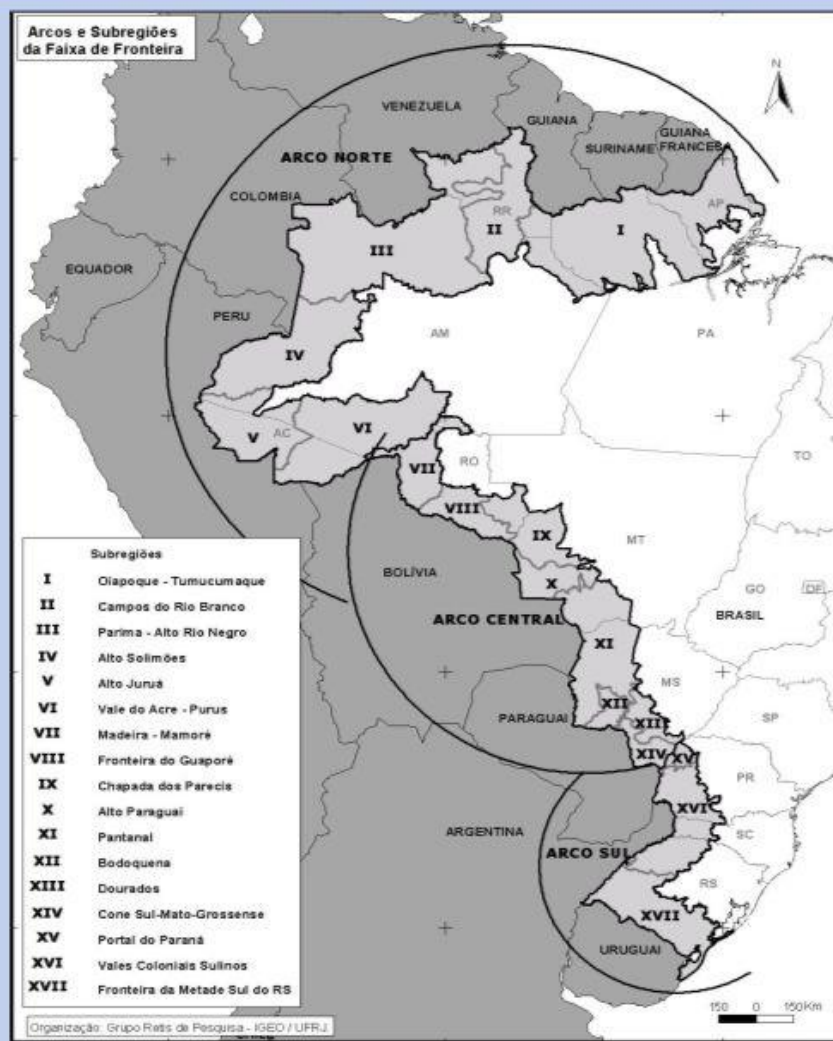
**Nossas fronteiras terrestres são suscetíveis a vários tipos de ilícitos:**

- ✓ **abigeato (roubo de gado)**
- ✓ **contrabando e descaminho**
- ✓ **crimes ambientais**
- ✓ **roubo de cargas e veículos**
- ✓ **tráfico de armas e munições**
- ✓ **tráfico de drogas**
- ✓ **tráfico de pessoas.**



# REGIONALIZAÇÃO DA FAIXA DE FRONTEIRA

## BASE ECONÔMICA E CULTURAL: ARCOS NORTE, CENTRAL E SUL



A Constituição de 1988 considera **Faixa de Fronteira** uma largura de 150 km ao longo das fronteiras terrestres. Essa área está sujeita a regras especiais de uso do solo, de propriedade e de exploração econômica. Nela, a realização de obras de infraestrutura, tais como transporte, e a exploração de recursos minerais dependem de autorização especial do governo federal. Por motivos de soberania e segurança nacional, somente empresas controladas por brasileiros podem atuar na faixa de fronteira. (Terra, Lygia & Araújo, Regina, Conexões, pag. 76)

Em função da posição geográfica dos municípios em relação à linha de fronteira é possível separá-los em dois grandes grupos:

- ✓ **lindeiros**: aqueles em que o território do município faz limite com o país vizinho.
- ✓ **não-lindeiros**: grupo dos municípios situados à retaguarda da faixa, tendo uma parte de seu território na faixa de fronteira mas não chega ao limite internacional.

## **Cidades gêmeas**

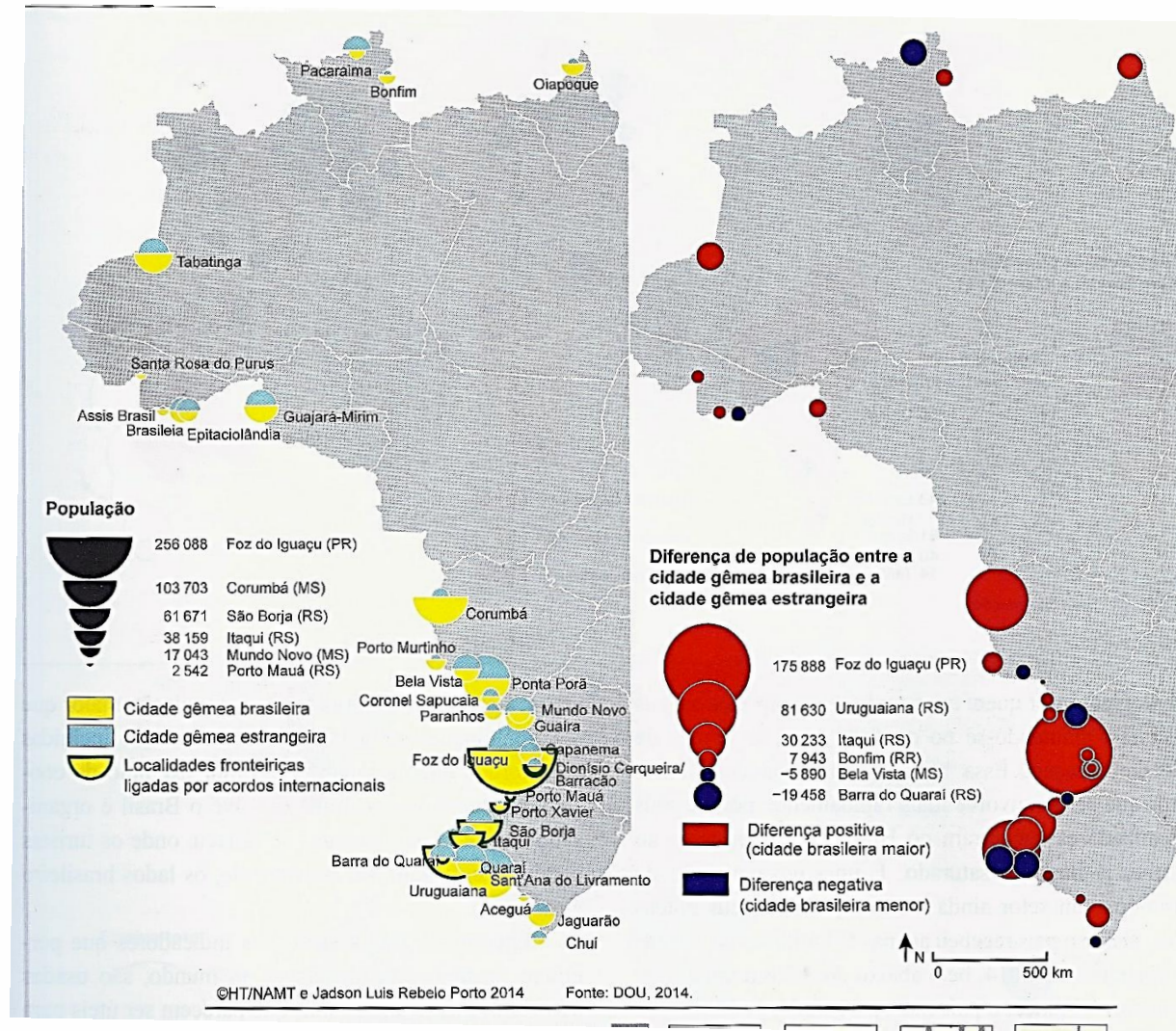
***“os municípios cortados pela linha de fronteira, seja essa seca ou fluvial, integrada ou não por obra de infraestrutura, que apresentem grande potencial de integração econômica e cultural, podendo ou não apresentar a unificação da malha urbana com cidade do país vizinho. Não serão consideradas cidades gêmeas aquelas com população inferior a 2 mil habitantes”.***

## **Cidades gêmeas**

- ✓ **Ciudad del Leste (Paraguai) e Foz do Iguaçu (PR).**
- ✓ **Pedro Juan Caballero (Paraguai) e Ponta Porã (MS).**
- ✓ **Rivera (Uruguai) e Santana do Livramento (RS).**
- ✓ **Artigas (Uruguai) e Quaraí (RS)**
- ✓ **Paso de Los Libres (Argentina) e Uruguaiana (RS)**
- ✓ **Leticia (Colômbia) e Tabatinga (AM).**
- ✓ **Santa Elena de Uairén (Venezuela) e Pacaraima (RR).**
- ✓ **Lethem (Guiana) e Bonfim (RR).**



# CIDADES GÊMEAS



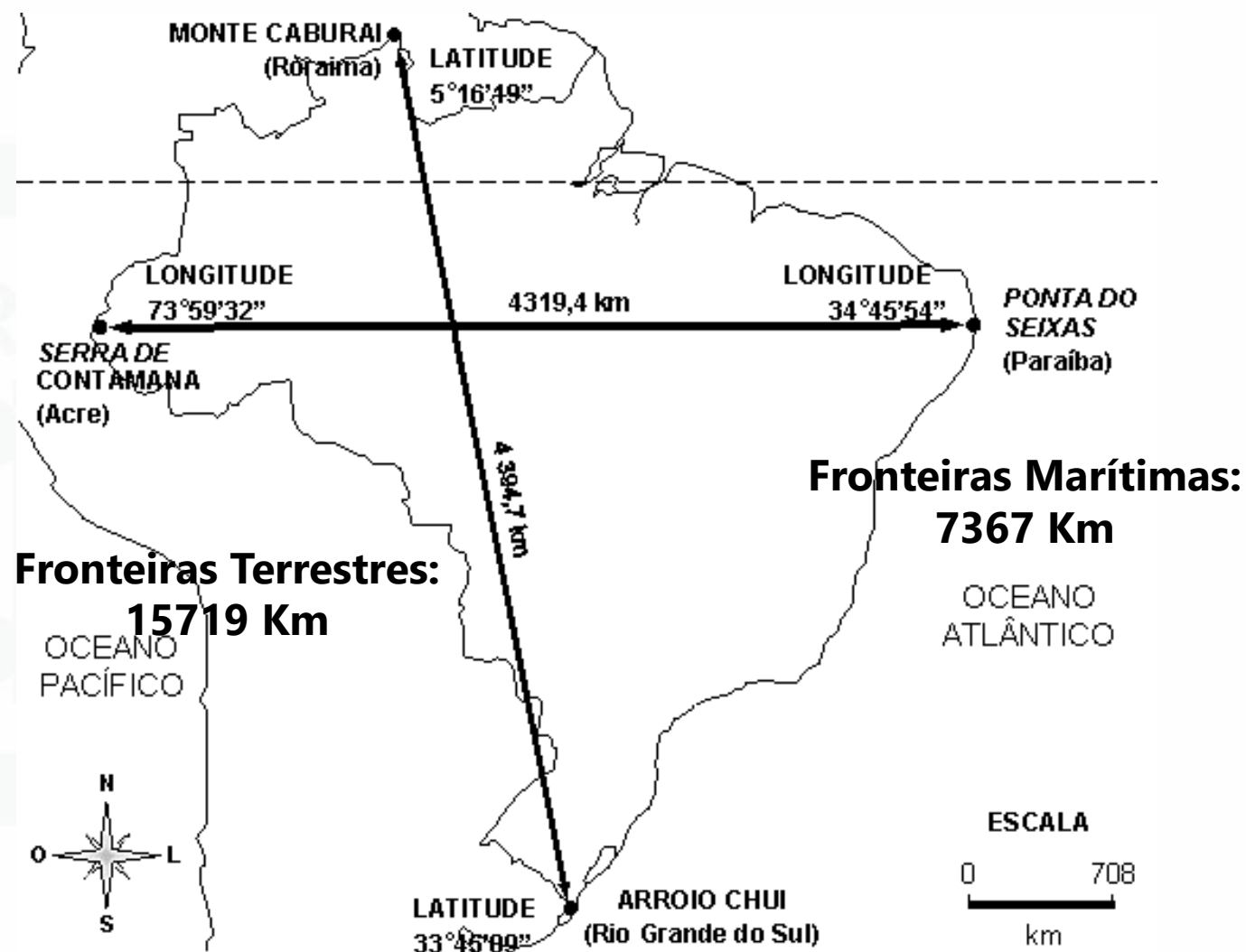
FONTE: THÉRY, Hervé & MELLO-THÉRY, Neil Aparecida de.  
Atlas do Brasil: disparidades e dinâmicas do território.  
Edusp, página 37.







## PONTOS EXTREMOS



- ✓ O Brasil é considerado um **país equidistante**, pois as distâncias dos alinhamentos Norte-Sul e Leste-Oeste são equivalentes, bem proporcionais.
- ✓ Essa equidistância é evidenciada pela distância longitudinal igual à distância latitudinal: 39° Norte-Sul e 39° no sentido Leste-Oeste.
- ✓ O Brasil tem um formato irregular, sendo mais largo na porção setentrional (norte) e estreita-se na porção meridional (sul).



O território brasileiro ocupa a porção centro-oriental ou centro-leste da América do Sul, totalizando 47,3% do território sul-americano. Tem limites fronteiriços com quase todos os países, exceto Chile e Equador. O Brasil também compartilha limites com a União Européia, através da Guiana Francesa, que é um departamento de ultramar da França.

## Extensão das Fronteiras Brasileiras

<i>Especificação</i>	<i>Extensão da linha divisória</i>	
	<i>Absoluta</i>	<i>Relativa (%)</i>
<b><i>TOTAL</i></b>	<b>23.086</b>	<b>100,00</b>
<b><i>Países Limítrofes</i></b>	<b>15.719</b>	<b>67,97</b>
<i>Colômbia</i>	1.644	7,11
<i>Venezuela</i>	1495	6,47
<i>Guiana</i>	1.606	6,94
<i>Suriname</i>	593	2,58
<i>Guiana Francesa</i>	655	2,83
<i>Uruguai</i>	1.003	4,34
<i>Argentina</i>	1.263	5,46
<i>Paraguai</i>	1.339	5,79
<i>Peru</i>	2.995	12,95
<i>Bolívia</i>	3.126	13,52
<b><i>Oceano atlântico</i></b>	<b>7.367</b>	<b>32,03</b>

IBGE, Diretoria de Geociências, Departamento de cartografia.

- ✓ **A SUA PROXIMIDADE GEOGRÁFICA COM A MAIOR PARTE DOS PAÍSES SUL-AMERICANOS COLOCA O BRASIL NUMA POSIÇÃO FAVORÁVEL, POIS FACILITA A REALIZAÇÃO DE ACORDOS COMERCIAIS E O DESENVOLVIMENTO DE UMA INFRAESTRUTURA CONJUNTA COM OS DEMAIS PAÍSES, COMO O GASODUTO BOLÍVIA-BRASIL E A FERROVIA TRANSOCEÂNICA, QUE LIGARÁ OS OCEANOS ATLÂNTICO E PACÍFICO.**

## Fusos Horários – Movimentos da Terra

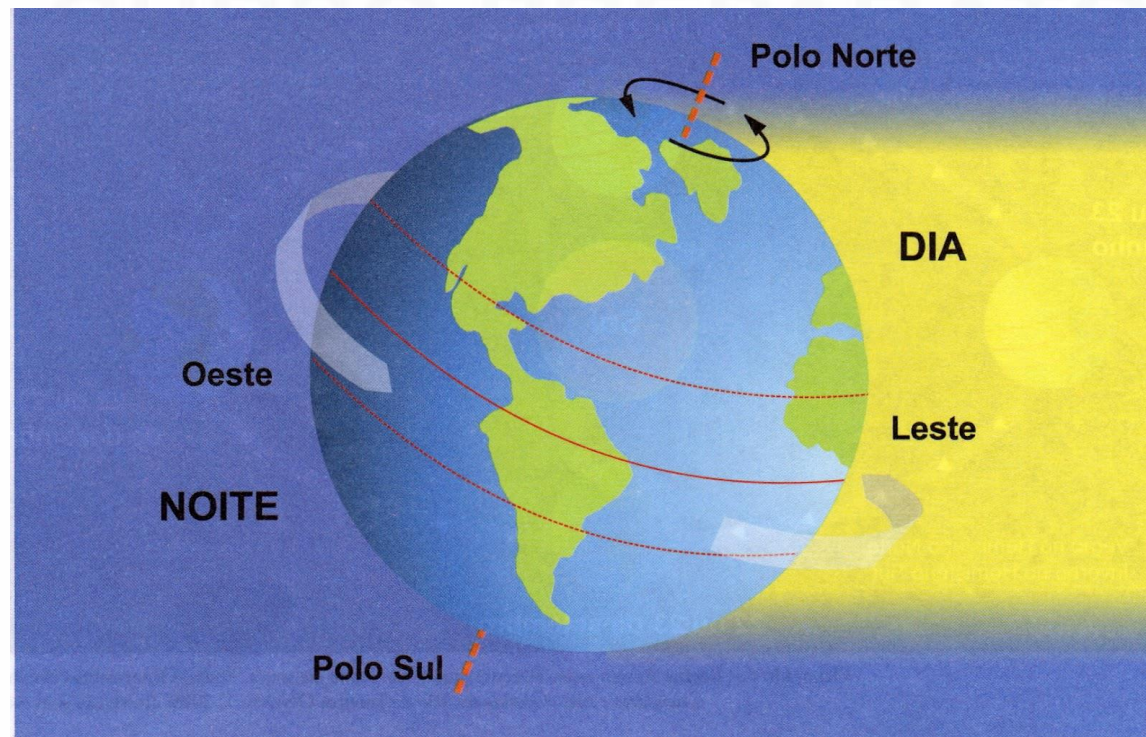
- ✓ Translação: movimento que a Terra faz girando em torno do Sol.
  - Tempo: aproximadamente 1 ano.





## Fusos Horários – Movimentos da Terra

- ✓ Rotação: movimento da Terra girando em torno de si mesma.
  - Tempo: aproximadamente 24 horas.

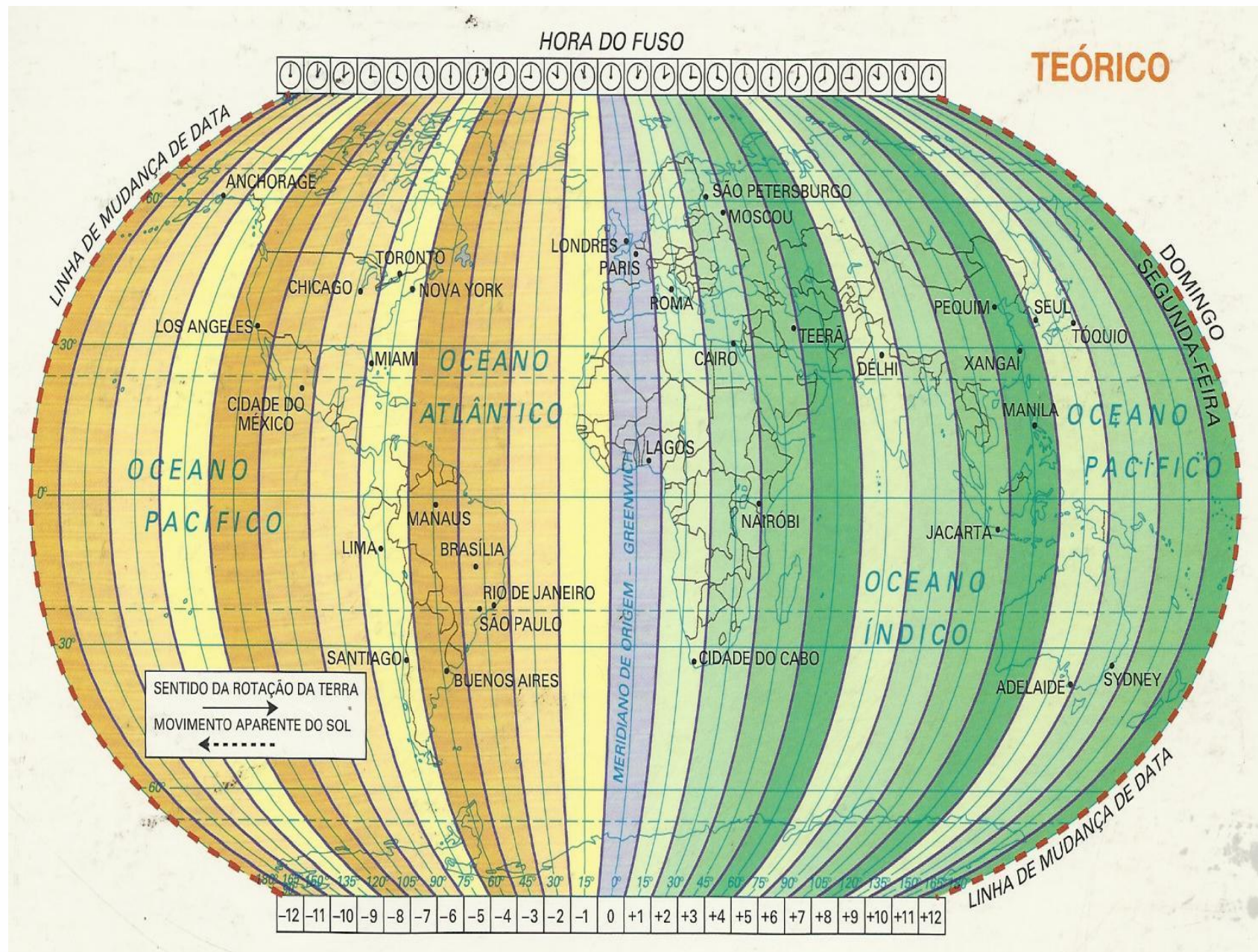


No movimento de rotação, a Terra gira uma volta completa ( $360^\circ$ ) e demora 24 horas para realizar este movimento. Então

$$360 \div 24 \text{ horas} = 15^\circ/\text{hora}$$

A velocidade do movimento de rotação da Terra é de  $15^\circ/\text{hora}$ . Portanto, cada faixa ou coluna vertical de  $15^\circ$  graus de distância longitudinal corresponde um fuso horário. Veja a próxima página.



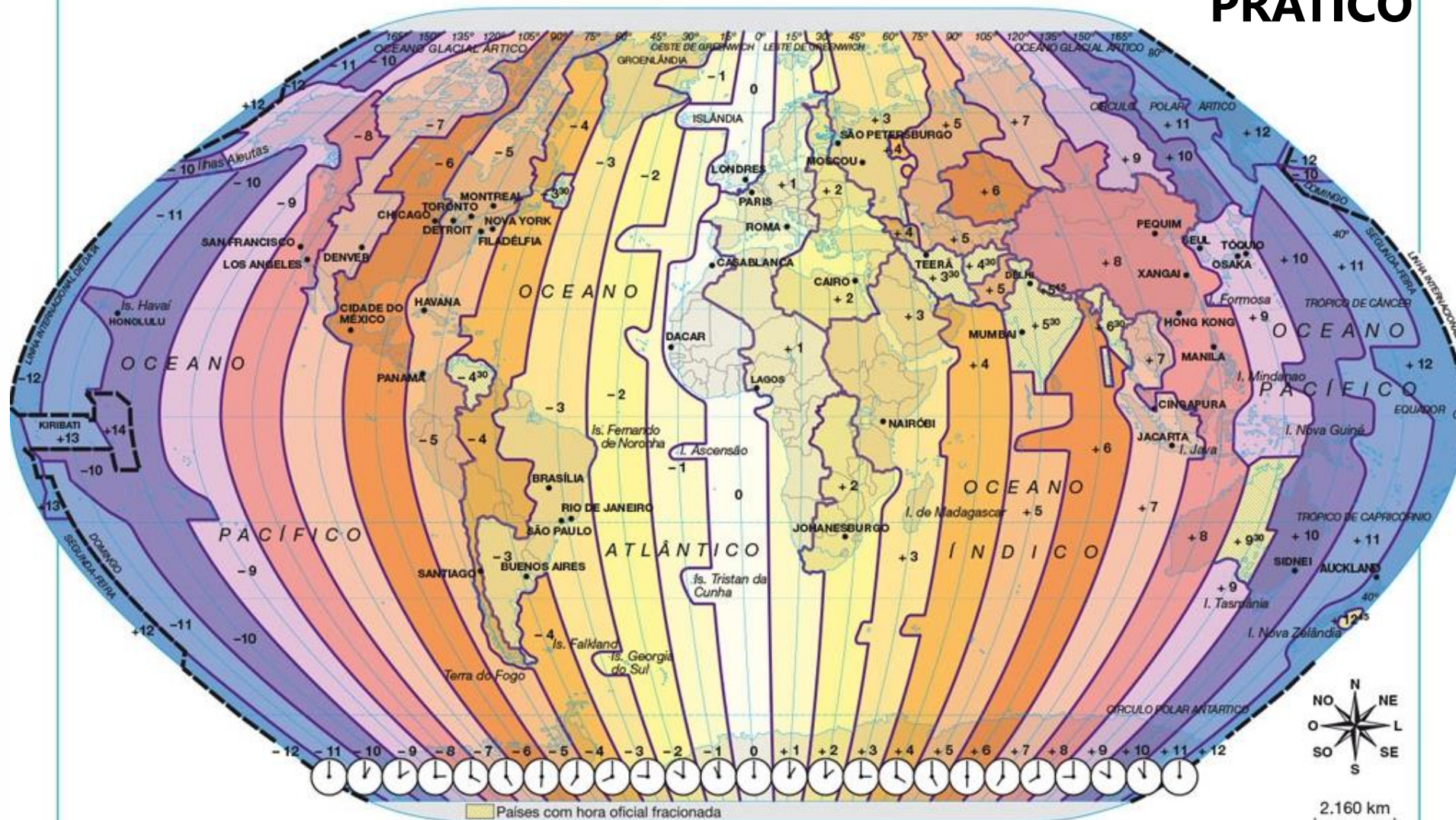


## FUSOS HORÁRIOS

As horas mudam, uma a uma, à medida que passamos de um fuso a outro. No entanto, como as linhas que os separam cortam várias unidades político-administrativas ao meio, os países fizeram adaptações estabelecendo, assim, **os limites práticos** dos fusos, na tentativa de manter, na medida que possível, um horário unificado num país, estado ou província, evitando-se que um estado pequeno tenha dois horários diferentes.



## PRÁTICO



# EVOLUÇÃO HISTÓRICA DOS FUSOS HORÁRIOS NO BRASIL

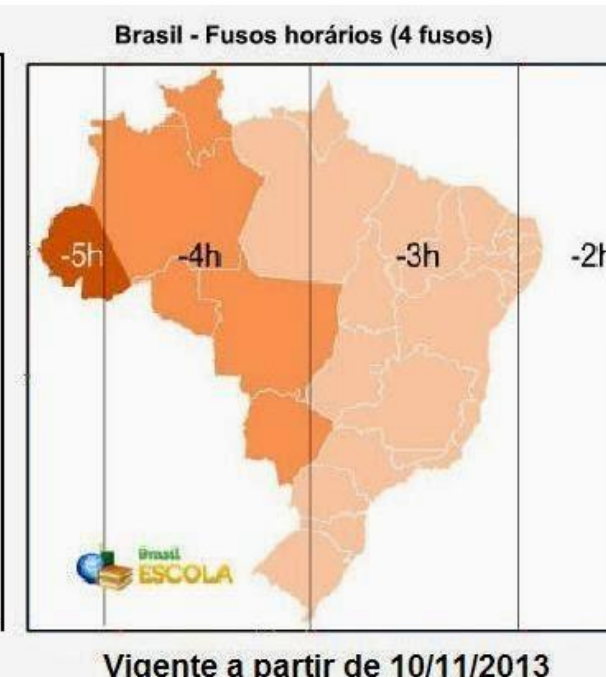
## Decreto 2.784, 1913



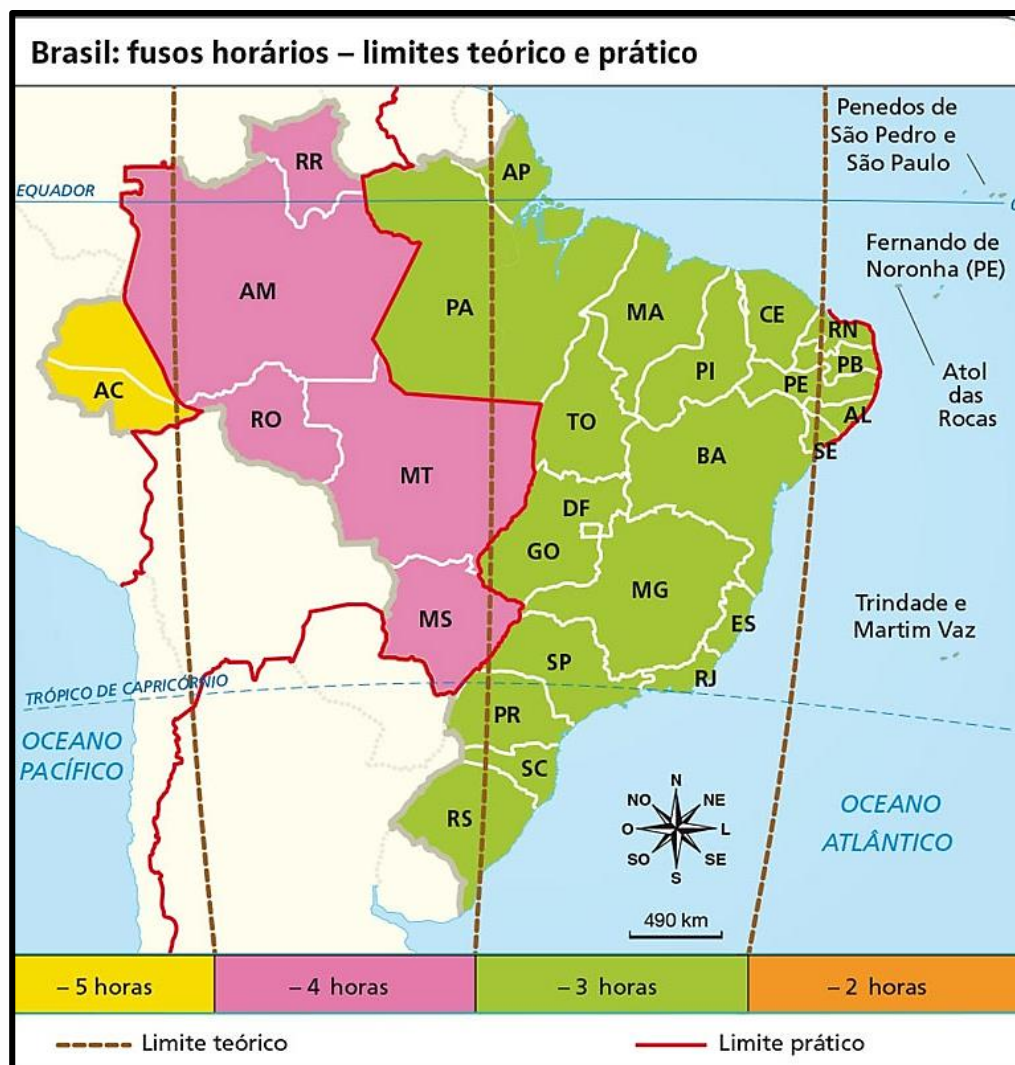
## Lei 11.662, 2008



## Lei 12.876, 2013

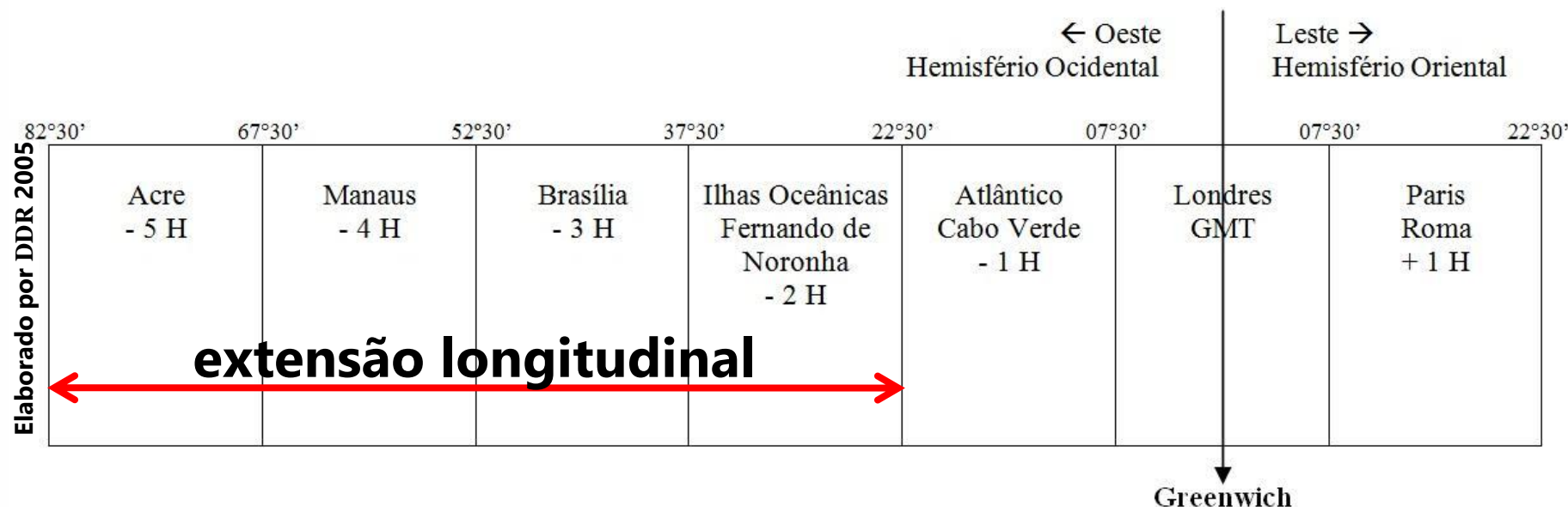






- ✓ Por ser tão grande no sentido longitudinal (leste-oeste), sendo muito largo, o território brasileiro se estende por 4 faixas de iluminação solar, tendo 4 fusos horários, todos atrasados em relação ao horário GMT (fuso de Londres).
- ✓ A maior parte do país e cerca de 90% da população situam-se no fuso de Brasília.

### Esquema de Fusos Horários



➤ **Quantos fusos horários tem o Brasil?**

✓ **4**

➤ **Por quê?**

- ✓ **Devido à sua grande extensão longitudinal**
- ✓ **O Brasil tem grande extensão leste-oeste**
- ✓ **O Brasil é muito largo territorialmente**

### Esquema de Fusos Horários

← Oeste Hemisfério Ocidental					Leste → Hemisfério Oriental	
82°30'	67°30'	52°30'	37°30'	22°30'	07°30'	22°30'
Acre - 5 H	Manaus - 4 H	Brasília - 3 H	Ilhas Oceânicas Fernando de Noronha - 2 H	Atlântico Cabo Verde - 1 H	Londres GMT	Paris Roma + 1 H
<b>14</b>	<b>15</b>	<b>16</b>	<b>17</b>	<b>18</b>	<b>19</b>	<b>20</b>
					↓ Greenwich	

Brasil x Alemanha irão disputar um jogo amistoso de futebol em Paris, às 20 horas. O jogo será transmitido ao vivo pela TV digital. Em qual horário o jogo será visto no Acre e no Rio de Janeiro, respectivamente?

- A. 14 horas no Acre e 16 horas no Rio de Janeiro
- B. 16 horas no Acre e 17 horas no Rio de Janeiro**
- C. 23 horas no Acre e 22 horas no Rio de Janeiro
- D. 11 horas no Acre e 12 horas no Rio de Janeiro
- E. 02 horas do dia seguinte no Acre e 04 h do dia seguinte no Rio de Janeiro

✓ **LEMBRETE:**

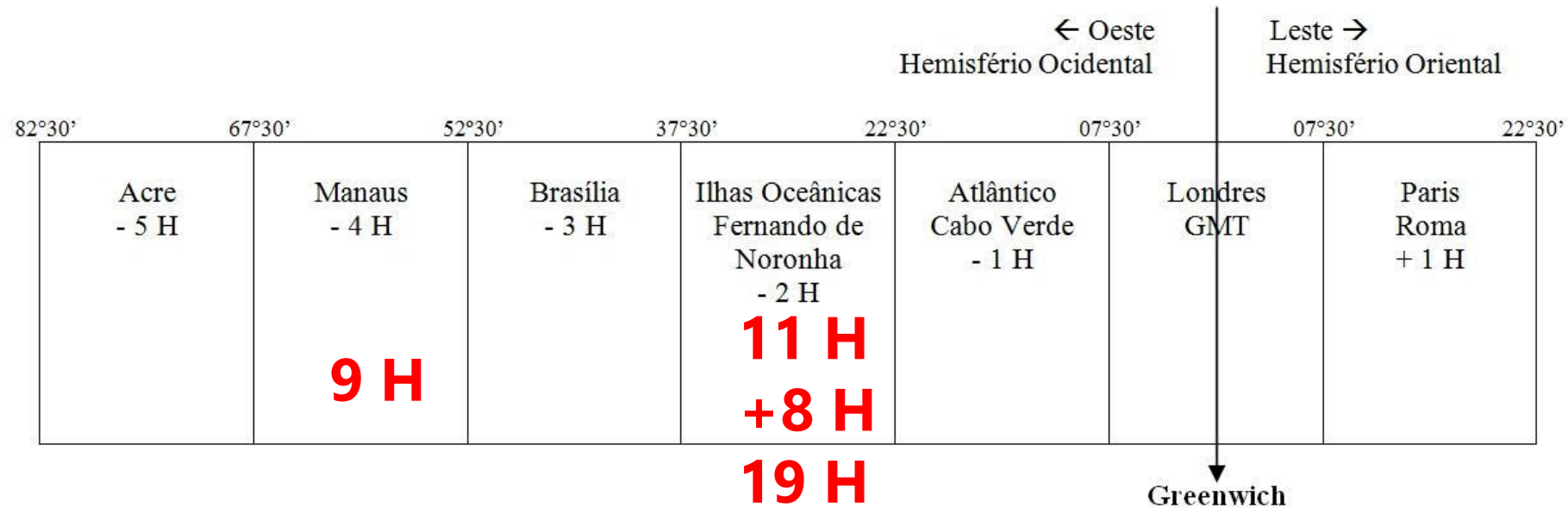
- **As localidades situadas a leste estão com o horário adiantado**
- **As localidades situadas a oeste estão com o horário atrasado.**

✓ **RESULTADO DO JOGO:**

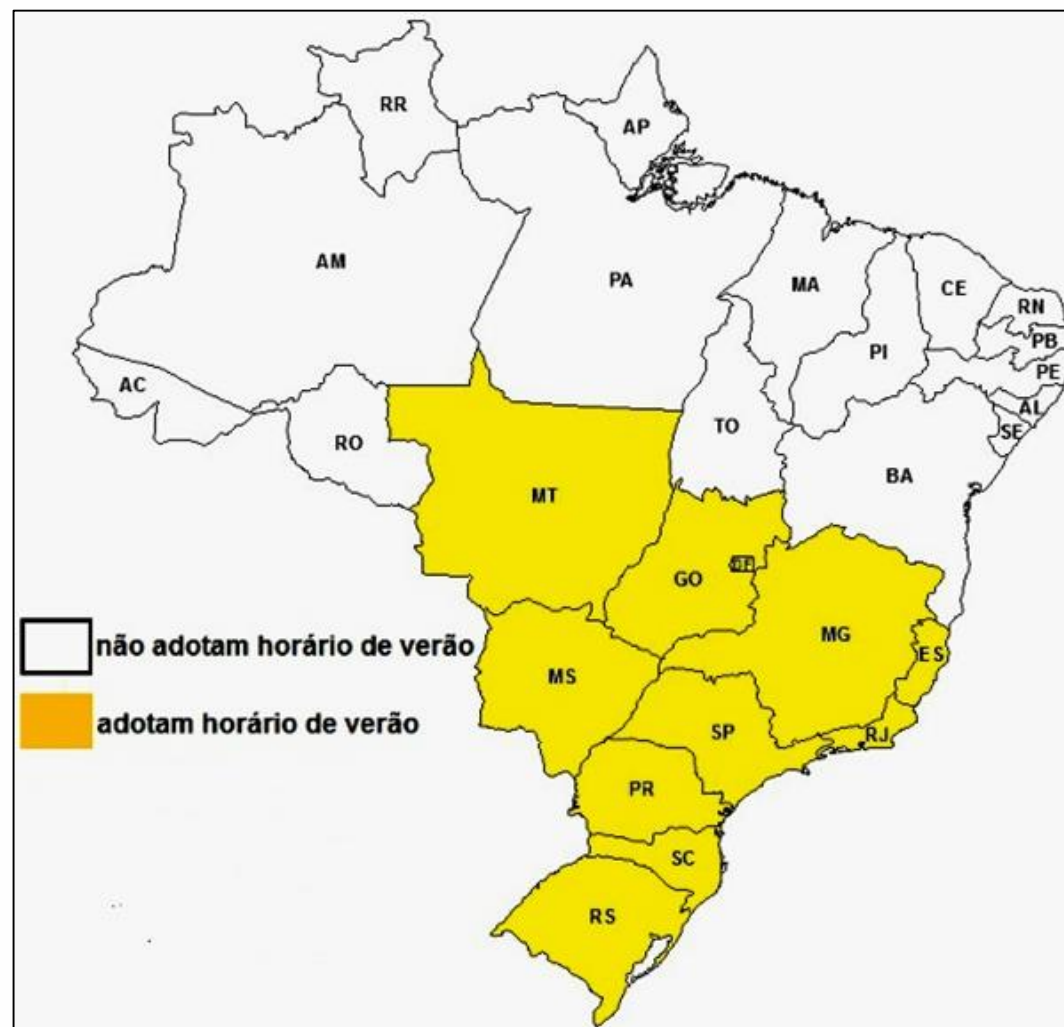
- **ALEMANHA 7 X 1 BRASIL**



### Esquema de Fusos Horários



Um avião decola de Manaus às 9 horas, com destino a Fernando de Noronha. A viagem tem 8 horas de duração. Em qual horário o avião chega ao seu destino?



## **HORÁRIO DE VERÃO**

**As regiões Norte e Nordeste, por estarem mais próximas do Equador, apresentam dias e noites com a mesma duração.**

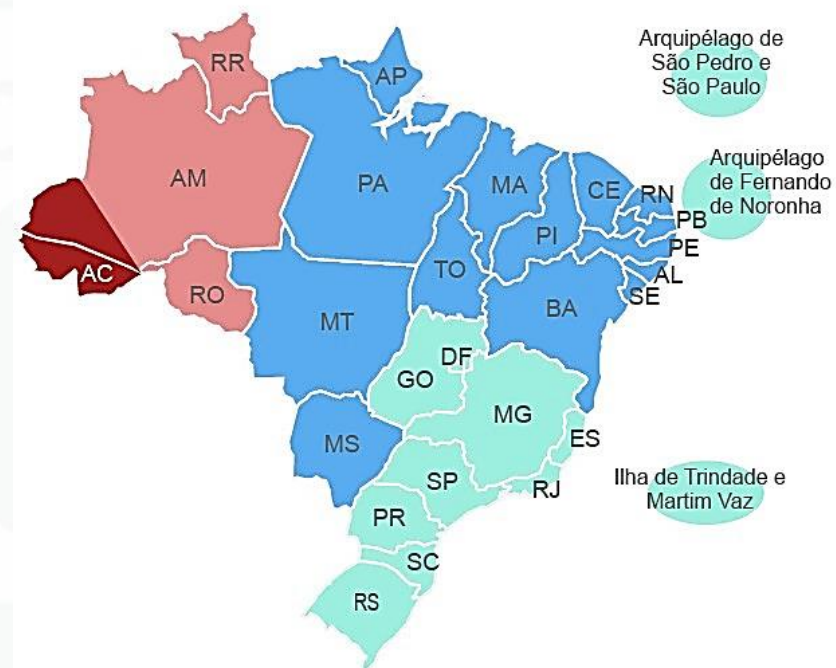
- ✓ **Portanto, não utilizam o horário de verão, de modo que ocorrem discrepâncias nos horários.**
- ✓ **Exemplo: o Acre tem horário atrasado de 2 horas em relação a Brasília, mas durante o horário de verão essa diferença aumenta para 3 horas.**

## Mapa de fusos no Brasil com horário de verão

10 estados e o DF estão com o relógio adiantado em uma hora; confira os 4 fusos horários do país

HORA LEGAL EM RELAÇÃO A BRASÍLIA

■ - 3 horas   ■ - 2 horas   ■ - 1 hora   ■ 0 hora

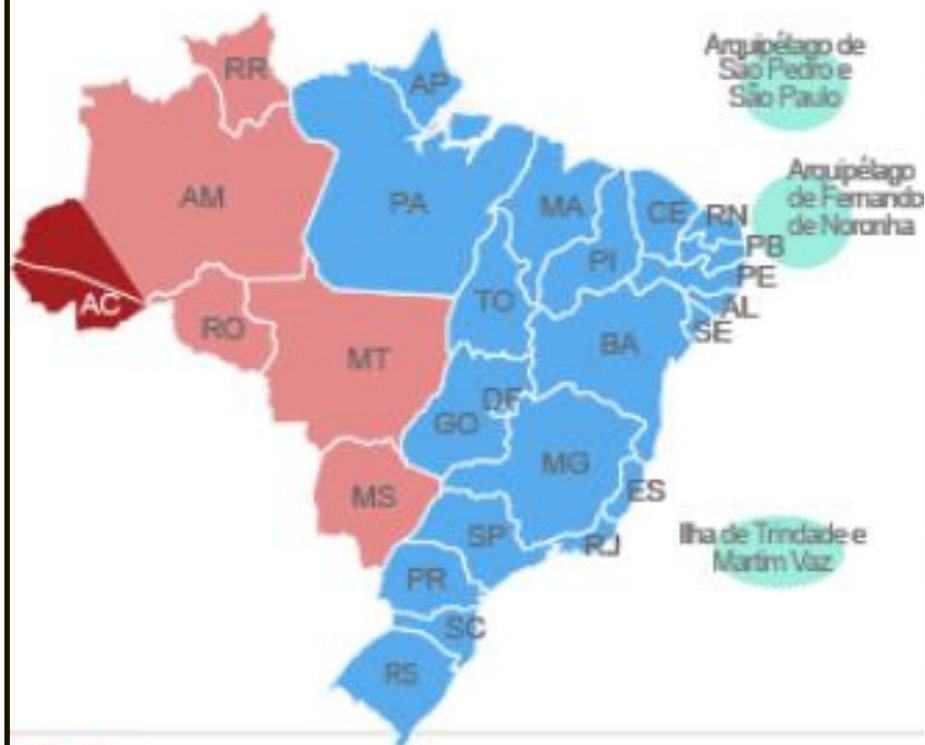


G1.com.br

Infográfico elaborado em: 19/10/2015

## Fusos horários

**sem** horário de verão



**G1**.com.br

## Fusos horários

**com** horário de verão



**G1**.com.br



# Bolsonaro assina decreto que acaba com o horário de verão

Adiantamento no relógio foi instituído pela primeira vez pelo ex-presidente Getúlio Vargas. Segundo Bolsonaro, fim do período vai aumentar produtividade do trabalhador.

**Por Laís Lis e Guilherme Mazui, G1** — Brasília

25/04/2019 11h15 · Atualizado há 2 anos

## LIMITES DO MAR

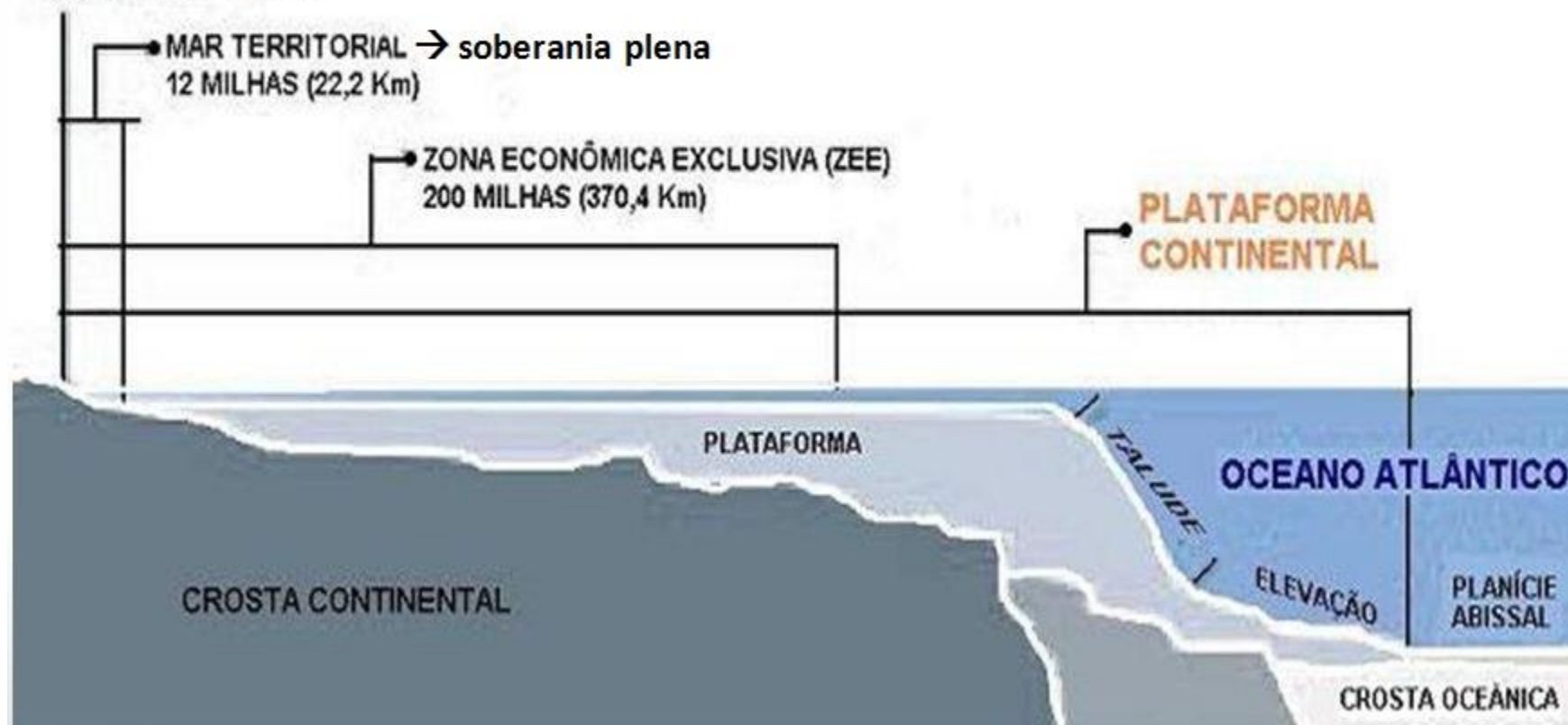
1 MILHA NÁUTICA = 1.852 m

LINHA BASE → praia

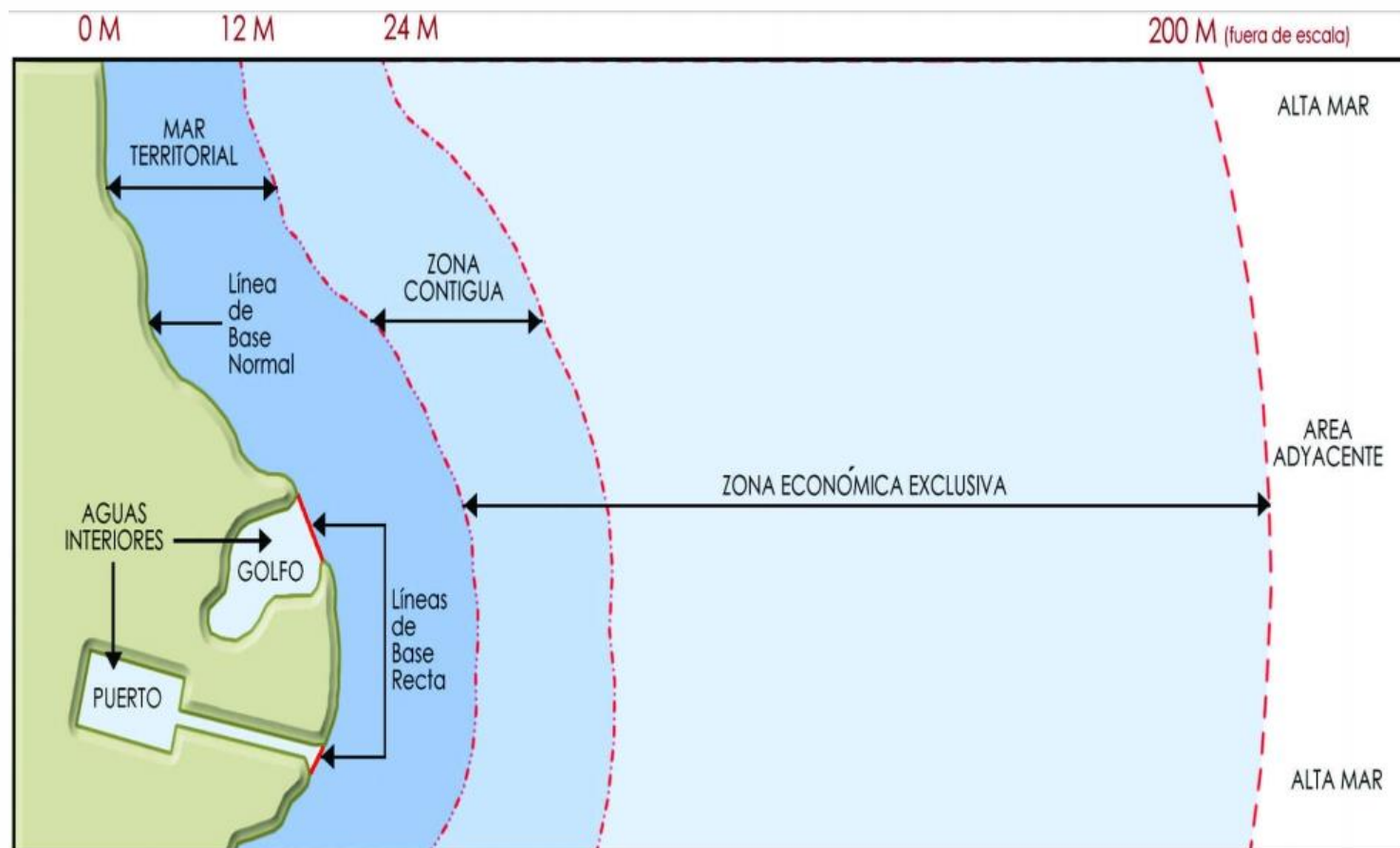
MAR TERRITORIAL → soberania plena  
12 MILHAS (22,2 Km)

ZONA ECONÔMICA EXCLUSIVA (ZEE)  
200 MILHAS (370,4 Km)

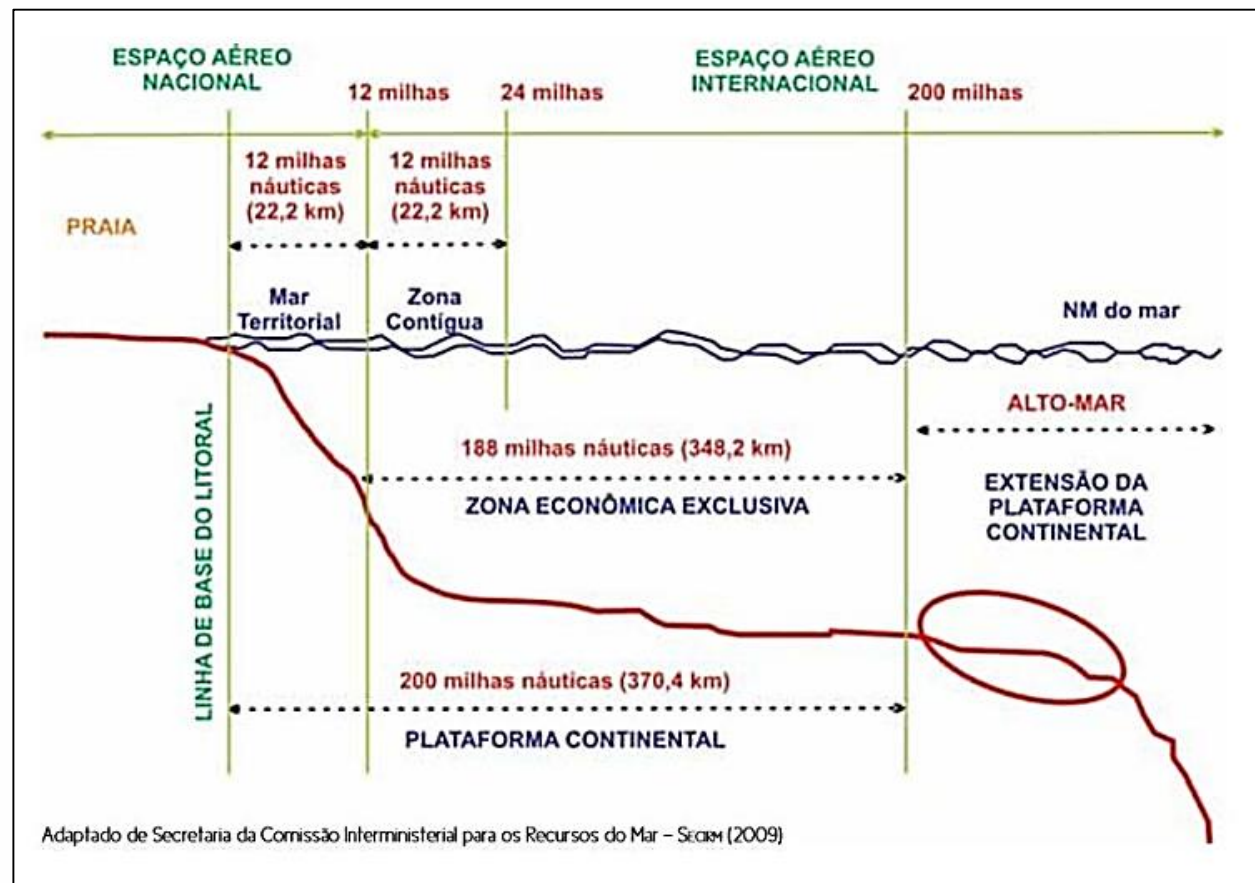
PLATAFORMA  
CONTINENTAL



# ÁGUAS JURISDICIONAIS BRASILEIRAS



# ÁGUAS JURISDICIONAIS BRASILEIRAS



Extraído de: <https://www.ecodebate.com.br/2018/12/18/mar-territorial-recursos-naturais-da-zona-economica-exclusiva-e-da-plataforma-continental-como-bens-da-uniao-por-jorge-kleber-teixeira-silva/>









[https://upload.wikimedia.org/wikipedia/commons/1/13/Br%C3%A9sil\\_-\\_ZEE\\_et\\_plateau\\_continental.jpeg](https://upload.wikimedia.org/wikipedia/commons/1/13/Br%C3%A9sil_-_ZEE_et_plateau_continental.jpeg) Acesso em: 18/02/2018

# EXERCÍCIOS

1. (DDR 2020) Levando-se em consideração os pontos extremos do território brasileiro, a diferença horária entre o ponto extremo setentrional e o ponto extremo meridional do Brasil é de

- ☒ A. 1 hora.
- ☐ B. 2 horas.
- ☐ C. 3 horas.
- ☐ D. 4 horas.
- ☐ E. nenhuma diferença, pois situam-se no mesmo fuso horário.

# EXERCÍCIOS

2. Após assaltar uma embarcação turística a 5 milhas náuticas da costa do Maranhão, um bando de piratas consegue fugir com joias e dinheiro em duas embarcações leves motorizadas. Comunicadas rapidamente do ocorrido, duas lanchas da Marinha que patrulhavam a área perseguiram e alcançaram uma das embarcações a 10 milhas náuticas das linhas de base a partir das quais se mede o mar territorial. A segunda embarcação, no entanto, só foi alcançada a 14 milhas náuticas das linhas de base. Ao final, todos os assaltantes foram presos e, já em terra, entregues à Polícia Federal. Com base no caso hipotético acima, é correto afirmar que

# EXERCÍCIOS

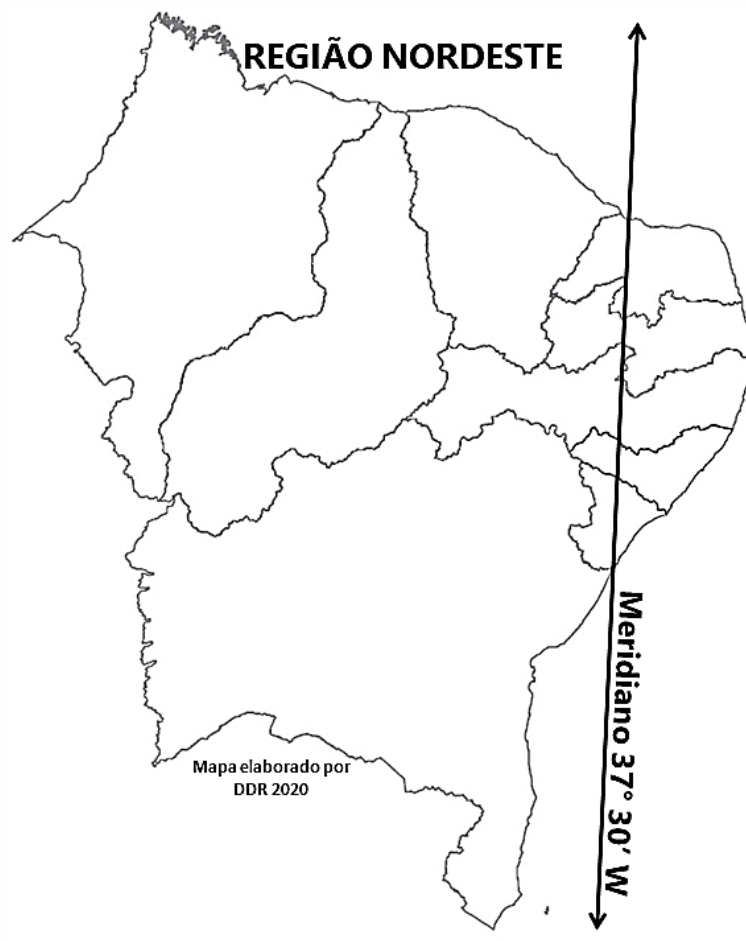
- A. as duas prisões são legais, pois qualquer embarcação situada dentro dos limites do Mar Territorial brasileiro, que se estende da linha de base (baixa-mar) até a distância de 200 milhas náuticas, deve responder às autoridades brasileiras por qualquer ato ilícito cometido.
- B. as duas prisões são ilegais, pois as embarcações foram interceptadas já em alto-mar, portanto, fora dos limites da soberania brasileira.
- C. a prisão da primeira embarcação é legal, mas não a da segunda, pois a jurisdição brasileira se esgota nos limites de seu mar territorial, que é de 12 milhas náuticas contadas das linhas de base.

# EXERCÍCIOS

- D. as duas prisões são ilegais, pois a repressão a crimes em águas jurisdicionais brasileiras não é de competência nem da Marinha nem da Polícia Federal.
- ☒ E. as duas prisões são legais, pois a primeira embarcação foi interceptada dentro dos limites do mar territorial e a segunda dentro dos limites da zona contígua, onde os Estados podem tomar medidas para reprimir as infrações às leis de seu território.



# EXERCÍCIOS



3. (DDR 2020) Observe o mapa ao lado. No mapa ao lado, percebe-se que pequenos estados da região Nordeste são “cortados” pelo Meridiano 37 graus e 30 minutos Oeste, que é o meridiano limite entre o fuso horário – 2 GMT e o fuso – 3 GMT. Qual é a situação de fuso horário destes estados.

- A. Possuem dois fusos horários
- ☒ B. Utilizam o horário de Brasília
- C. Utilizam o horário das Ilhas Oceânicas
- D. Adotam o horário de verão
- E. Adotam rigidamente o limite teórico dos fusos

4. (DDR 2020) Leia a notícia abaixo.

Brasil Escola, 03/10/2019

### **Inep anuncia data de divulgação dos locais de prova do Enem 2019**

Quando será o Enem 2019?

O Enem 2019 será realizado nos dias 3 e 10 de novembro. Os portões serão fechados às 13h e as provas começarão às 13h30 (horário oficial de Brasília).

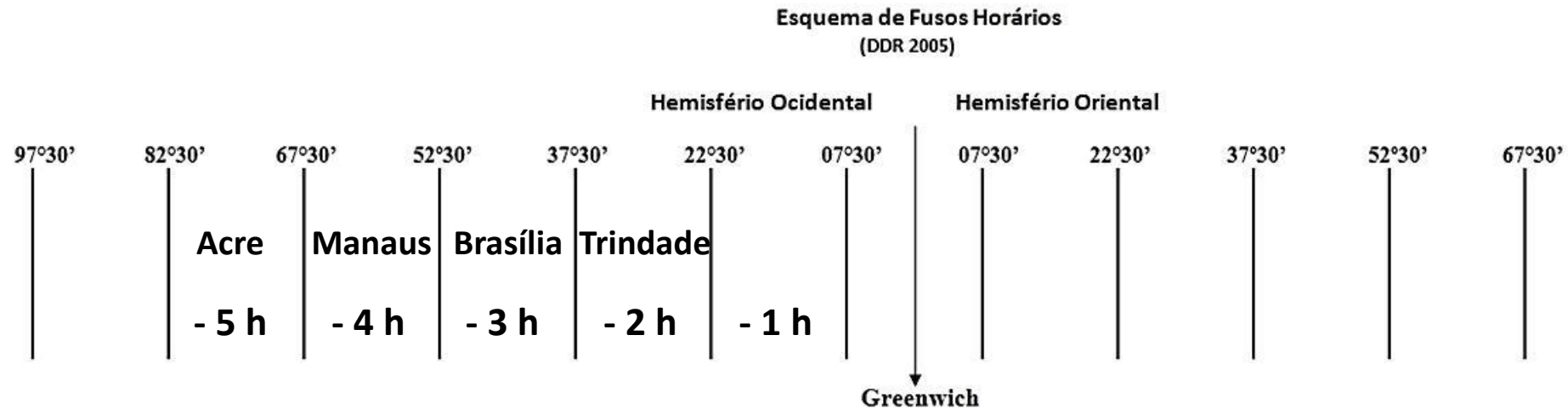
Extraído de:

<https://vestibular.brasilecola.uol.com.br/enem/inep-anuncia-data-divulgacao-dos-locais-prova-enem-2019/346202.html>

Estudantes que fizeram a prova na cidade de Porto Velho – RO, tiveram que estar atentos ao horário de fechamento de portões, que ocorreu às

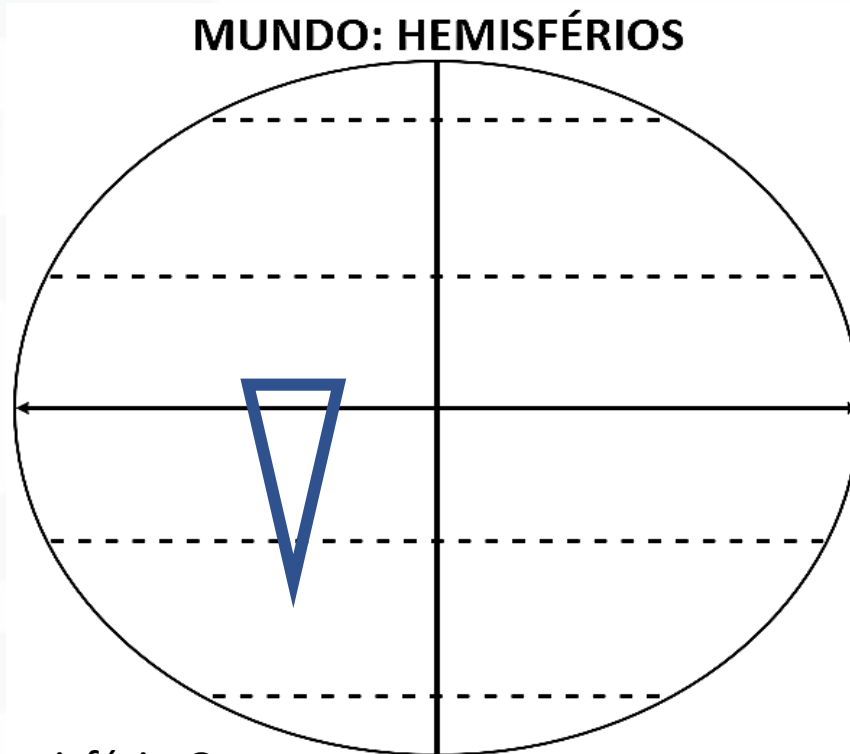
A. 11:00 h   **B. 12:00 h**   C. 12:30 h   D. 13:00 h   E. 14:00 h

## 5. (DDR 2018) Observe e use o esquema abaixo para



Por ser tão grande no sentido longitudinal, o território brasileiro se estende por 4 faixas de iluminação solar, ocupando 4 fusos horários. Escreva, dentro do esquema acima, o nome de quatro localidades brasileiras, cada uma dentro do seu respectivo fuso horário.

6. (DDR 2021) Faça uma representação esquemática do território brasileiro (círculo, triângulo ou retângulo) localizando-o no mapa abaixo do Mundo. (3 ESCORES)



Organizado por DDR 2022

➤ **ESCORES**

- ✓ Brasil inteiramente no Hemisfério Oeste
- ✓ Uma pequena parte ao norte do Equador
- ✓ Uma pequena parte ao sul do Trópico de Capricórnio



Você alcançou o final da aula de  
Características Gerais do Território Brasileiro  
obtendo aproveitamento do êxito!